



Republika e Kosovës - Republika Kosova - Republic of Kosovo

Qeveria - Vlada - Government

Ministria e Mjedisit, Planifikimit Hapësinor dhe Infrastrukturës  
 Ministarstvo životne sredine, prostornog planiranja i infrastrukture  
 Ministry of Environment, Spatial Planning and Infrastructure

Departamenti për Patentë Shoferë dhe Automjete  
 Odeljenje za vozačke dozvole i vozila  
 Department for Driver's License and Vehicles

1001. **Da li vam je dozvoljeno da promenite traku za skretanje levo, u ovu situaciju?**

Da, samo ako automobil razvije maksimalnu brzinu

Ne, nikako

✓ Da, morate da posmatrate saobraćaj od pozadi (ogledala, mrtav ugao) da signalizira pokazivačima pravca



1002. **Kako trebate postupiti u ovoj situaciji?**

✓ Skidam nogu sa papučice gasa (ne dajem gas).

Trebam nastaviti istom brzinom.

Ništa ne preduzimam, pošto je pešak star.




1003. **Kakvu pažnju morate obratiti u ovoj situaciji?**

Treba da se krećem povećanom brzinom pored autobusa.

Treba da se zaustavim iza autobusa dok putnici ne ulaze i izlaze.

✓ Na pešake koji izlaze ispred i iza autobusa i mogu preći put.



1004. **Šta trebate imati u vidu u ovoj situaciji?**

- U smanjenju bočne sigurnosne udaljenosti.
- Biću spreman da reagujem u slučaju potrebe.
- ✓ Koristiću zvučni znak (sirenu) da se pešaci sklone sa puta.



1005. **Kako trebate postupiti u ovoj situaciji?**

- Moram se zaustaviti radi davanja prvenstva prolaza pešaku.
- Nastaviću sa kretanjem u desno bez zaustavljanja, ali uz dodatnu pažnju.
- ✓ Vozim samo pravo.




1006. **Kako trebate postupiti u ovoj situaciji?**

- ✓ Kočite.
- Trebam nastaviti istom brzinom.
- Ništa ne preduzimam, biciklist ne sme kretati na putu.



1007. **Kako trebate postupiti u ovoj situaciji?**

- Promenu saobraćajne trake.
- S obzirom da na pješačkom prijelazu nema pešaka, trebate povećati brzinu.
- ✓ Po potrebi ću smanjiti brzinu i biti spreman za kočenje.



1008. Šta treba da imate u vidu dok vozite autoputem u ovoj situaciji?

Ograničenu preglednost.

Zabranjeno mi je preticanje.

✓ Zabranu polukružnog okretanja.



1009. Kako da postupite u ovoj situaciji?

✓ Zaustaviću se da bih dao prvenstvo prelaza pešaku

Nastaviću kretanje bez zaustavljanja.

Zvučnim znakom (sirenom) upozoriću pešaka da se skloni sa puta.



1010. Kako trebate postupiti u ovoj situaciji?

Trebalo bi da se kreće istom brzinom, životinje ne predstavljaju opasnost.

Koristiću zvučni znak (sirenu) da bi oterao životinje sa puta.

✓ Smanjiću brzinu kretanja, po potrebi ću se zaustaviti.



1011. Šta trebate imati u vidu tokom vožnje u ovoj situaciji?

Trebam da koristim duga svetla.

U zabrani preticanja.

✓ Na prilagođavanje očiju iz svetla u mrak.



## 1012. Šta treba trebati imati u obzir u ovoj situaciji?

Obavezan sam da se zaustavim radi davanja prednosti za prolaz autobusu.

Promenu saobraćajne trake u levo.



Imam prednost prolaza u odnosu na autobus.



## 1013. Kako da postupite u ovoj situaciji?



Reagovaću na vreme ako treba kočim.

Trebalo bi nastaviti istom brzinom.

Ne preduzimam ništa, biciklist je na trotoaru.



## 1014. Šta treba uzeti u obzir dok vozite automobil u ovoj situaciji?

Suženje puta s leve strane.



Na opasnu krivinu nalevo.

Prevoja puta.



## 1015. Šta trebate imati i vidu u ovoj situaciji?

Zaustaviću uvek ispred znaka.



Daću prednost prolazu vozila koja se kreću na raskrsnici.

Imam prednost nad vozilima koja se kreću na raskrsnici.



1016. **Da li u ovoj situaciji treba povećati bezbednosnu udaljenost?**

Da, ograničeno vidno polje puta.



Da, putanja kočenja je veća.

Da, putanja kočenja je manja.




1017. **Autobus ulazi u saobraćajnu traku sa stajališta za autobuse van urbane zone. Šta trebate imati u vidu u ovoj situaciji?**



Nastaviću kretanje uz dodatnu pažnju, pošto pešaci mogu izaći na put.

Trebam omogućiti autobusu priključenje u saobraćaj.

Moram da stanem na mestu dok se autobus ne ugasi pokazivač pravca.



1018. **Koja radnja je ispravna u ovoj situaciji?**

Trebam nastaviti istom brzinom.



Skidam nogu sa papučice gasa (ne dajem gas).

Ništa ne preduzimam, dijete je na trotoaru.



1019. **Šta trebate imati u vidu u ovoj situaciji?**



Daću prednost prelaska pešaku.

Trebam nastaviti istom brzinom.

Zvučnim znakom (sirenom) upozoriću pešaka da se skloni sa puta.




1020. **Da li u ovoj situaciji treba dati prednost pešacima?**

Ne, koristitću zvučni znak (sirenu).

✓ Da.

Da, samo ako su deca.



1021. **Da li morate dati prednost autobusu koji je ušao na putu sa sa stajališta, van urbane zone?**

✓ Ne.

Da.

Da, samo noću.



1022. **U kojim slučajevima je dozvoljeno korišćenje trake broj 1 na autoputu?**

Za kretanje vozila koja se ne mogu kretati brzinom iznad 60 km/h.

Za preticanje vozila koja se kreću veoma sporo.

✓ Za obavezno zaustavljanje u slučaju kvara na vozilu.



1023. **Tokom kretanja na autoputu kao u ovoj situaciji, po kojoj saobraćajnoj traci se trebate kretati?**

Na traci br. 1

✓ Na traci br. 2

Na traci br.3 ukoliko je slobodna.



1024. **Koje je ponašanje ispravno u ovoj situaciji?**

- Trebam nastaviti istom brzinom
- Ništa ne preduzimam, pešak ne predstavlja opasnost
- Promatraću (pratiti) pješaka na trotoaru.



1025. **Šta treba imati u vidu u ovoj situaciji?**

- Zasutaviću se, dok pređu pešaci.
- Treba da se krećem maksimalnom brzinom koju vozilo razvija.
- Posmatraću (pratiću) pešake na trotoaru.



1026. **Koje ponašanje je ispravno u ovoj situaciji?**

- Skidam nogu sa papučice gasa (ne dajem gas).
- Trebam nastaviti istom brzinom
- Naglo kočenje



1027. **Kakvu pažnju trebate posvetiti u ovoj situaciji?**

- Zaustaviću se radi davanja prednosti prelasku vozilu koje dolazi sa suprotnog smera kretanja.
- Zabranu saobraćaja u oba smera.
- Put na kojem se saobraćaj odvija u jednom smjeru.



1028. Šta treba imati u vidu u ovoj situaciji?

Nastaviću kretanje ispred crvenog auta.

✓ Daću prednost prolazu crvenog auta.

Znak "Put sa prvenstvom prolaza".



1029. Na šta trebate računati u ovoj situaciji?

Na blizinu suženja puta sa desne strane

Zabrana saobraćaja za vozila.

✓ Zabrana preticanja vozila, osim motocikala bez bočnih prikolica.



1030. Koje je ponašanje ispravno u ovoj situaciji?

Ništa ne preduzimam, prepreka lako se prelaze.

✓ Sa posebnom pažnjom prelazim pešački prelaz.

Trebam nastaviti istom brzinom.



1031. Šta trebate imati u vidu u ovoj situaciji?

✓ Devicije puta

Put bez izlaza.

Planinski prevoj.





1032. Šta trebate imati u vidu u ovoj situaciji?

Planinski prevoj.

✓ Tunel je daleko 500 m od znaka.

Deo puta na kome je dozvoljeno preticanje.



1033. Šta trebate imati u vidu u ovoj situaciji?

Moram da skidam nogu sa papučice gasa (ne dajem gas).

Suženje puta sa leve strane.

✓ Moram paziti da vozila mogu doći sa sporednih puteva.




1034. Kako bi ste postupili u ovoj situaciji?

Zaustaviću se iza autobusa i čekaću dok ne pođe sa svojeg stajališta.

Trebam nastaviti kretanje povećanom brzinom, pošto je autobus zaustavljen na stajalištu za autobuse.

✓ Nastaviću kretanje uz povećanu pažnju.



1035. Šta trebate imati u vidu u ovoj situaciji?

✓ Postojanja ulegnuća na putu, po potrebi se smanjuje brzina.

Suženje puta sa leve strane.

Blizina tunela.



1036. Šta treba uzeti u obzir u ovoj situaciji?

Zabranu saobraćaja u oba smera.

Put na kojem se saobraćaj odvija u jednom smeru.

✓ Imam pravo prvenstva prolaza u odnosu na vozilo koje se kreće iz suprotnog smera.



1037. Kako ćete postupiti u ovoj situaciji?

✓ Zaustaviću se pre raskrsnice.

Treba da nastavim da se krećem bez zaustavljanja.

Upalitiću sve pokazivače pravca.



1038. Koje ponašanje je ispravno u ovoj situaciji?

✓ Povećaću bočno rastojanje ako nema vozila pozadi.

Trebam nastaviti istom brzinom.

Ništa ne preduzimam, pešak mora da se skloni sa puta.




1039. Deca se nalaze pored puta. Kakvu pažnju ćete posvetiti ovoj situaciji?

✓ Po potrebi ću smanjiti brzinu.

Treba da stanem na mestu da posmatram postupke pešaka.

Treba da nastavim kretanje povećanom brzinom.



1040. **Van urbane zone na nacionalnom putu zaustavili ste vozilo zbog kvara. Kakvu pažnju trebate posvetiti?**

Na uključenje levi pokazivača pravca.

Na postavljanje bezbednosnog trokuta iza vozila u rastojanju od najmanje 200 metara.

Na postavljanje bezbednosnog trokuta iza vozila u rastojanju od 30 – 50 metara.



1041. **Šta trebate imati u vidu u ovoj situaciji?**

Treba da se zaustavim ispred znaka

Nije mi dozvoljeno da menjam saobraćajnu trak.

✓ Zabrana zaustavljanja i parkiranja počinje od mjesta na kojem je postavljen znak.



1042. **Kakvu pažnju trebate posvetiti u ovoj situaciji?**

✓ Dozvoljeno mi je kretanje pravo i desno.

Zabrana saobraćaja za pešake.

Dozvoljena mi je promena trake.



1043. **Koje je ponašanje ispravno u ovoj situaciji?**

Upotrebiću zvučni znak (sirenu) za upozorenje pešaka da se skloni sa puta.

Moram da skidam nogu sa papučice gasa (ne dajem gas).

Nastavite da vozite opreznije.



1044. Šta treba uzeti u obzir u ovoj situaciji, saobraćaj je blokiran?

Moram da nastavim kretanje, zeleno svetlo.

✓ Moram da stanem pre raskrsnice.

Nije mi dozvoljeno da smetam vozila pozadi.



1045. Na šta ćete računati u ovoj situaciji?

✓ Na rastojanju od 80 m od železničkog prelaza.

Na rastojanju od 240 m od železničkog prelaza.

Prelaza za tramvaja.



1046. Da li ćete dozvoliti da se autobus priključuje u saobraćajnu traku u situaciji kao na slici?

Ne, ni u kom slučaju.

✓ Da.

Ne, samo izvan naseljenih mesta.




1047. Na semaforu svetli žuto trepćuće svetlo. Da li vam je Dozvoljeno skretanje u desno?

Ne, nikako.

Da, ali moram čekati dok se na semaforu ne upali zeleno.

✓ Da, ali prednost se mora dati pješacima.



1048. Šta trebate imati u vidu u ovoj situaciji?

✓ Posmatram postupke pešaka.

Moram povećati brzinu.

Treba da stanem na mestu.



1049. Šta trebate imati u vidu u ovoj situaciji?

Zabrana saobraćaja za decu

Staza trčanje za decu.

✓ Možete naići na decu, po potrebi smanjim brzinu.



1050. Kada se trebaju postaviti dva trokuta bezbednosti kao na slici?

Povodom zaustavljanja automobila za iskrcavanje putnika.

✓ Prilikom zaustavljanja vozila na putu koji prevozi opasni materijal zbog kvara.

Tokom radova na putu



1051. Šta trebate imeti u vidu u ovoj situaciji?

✓ Klizav put zbog snijega.

Pri skretanju desno naglo ću kočiti.

Moram da se zaustavim ispred znakova.



1052. **Koje je ponašanje ispravno u ovoj situaciji?**

- ✓ Moram da skidam nogu sa papučice gasa (ne dajem gas).
- Trebam nastaviti istom brzinom.
- Ništa ne preduzimam, pešaci se moraju kretati na trotoaru.



1053. **Kako trebate postupiti u ovoj situaciji?**

- Upotrebiću zvučni znak i nastaviću kretanje.
- Treba da stanem na mestu da posmatram postupke životinje.
- ✓ Poveću pažnju i u slučaju potrebe zaustaviću vozilo.



1054. **Koje ponašanje (radnja) je ispravno u ovoj situaciji?**

- ✓ Kočite.
- Trebam nastaviti istom brzinom.
- Ništa ne preduzimam, pešak ne sme kretati na putu.



1055. **Kako trebate postupiti u ovoj situaciji?**

- Na ograničenom vidnom polju.
- ✓ Poveću pažnju, put kočenja je veća.
- Nastaviću kretanje povećanjem brzine pošto je put slobodan.



1056. Šta trebate imati u vidu u ovoj situaciji?

Prevoj puta.

✓ Na blizinu suženja puta na obe strane, podešavanje brzine.

Put na kojem se saobraćaj odvija u jednom smeru.



1057. Kada trebaju postaviti dva trokuta bezbednosti kao na slici?

Prilikom zaustavljanja automobila za iskrcavanje putnika.

Tokom radova na putu.

✓ Prilikom zaustavljanja kolone vozila na putu zbog kvara.



1058. Šta trebate imati u vidu u ovoj situaciji?

Na ograničenom vidnom polju.

Upotrebiti zvučni znak (sirenu) i nastavak kretanja istom brzinom.

✓ Pešaci mogu izaći na put.



1059. Šta trebate imati u vidu u ovoj situaciji?

✓ Može da se pojavi pešak između parkiranih vozila.

Dozvoljeno da menjam saobraćajnu traku na levo.

Trebam smanjiti bezbedno rastojanje prema vozila koje se kreće napred.



1060. Koje je ponašanje ispravno u ovoj situaciji?

✓ Spreman za kočenje.

Trebam nastaviti istom brzinom.

Ništa ne preduzimam, tritonet ne predstavlja opasnost.



1061. Koje ponašanje je ispravno u ovoj situaciji?

✓ Kočite.

Trebam nastaviti istom brzinom.

Ništa ne preduzimam, pešaci ne sme kretati na putu.



1062. Koje ponašanje je ispravno u ovoj situaciji?

Treba da upotrebim sirenu prema vozaču zbog kršenja saobraćajnih pravila.

✓ Skidam nogu sa papučice gasa (ne dajem gas), omogućiti auto priključenje u saobraćaj.

Trebam nastaviti istom brzinom.




1063. Koje ponašanje (radnja) je ispravno u ovoj situaciji?

Skidam nogu sa papučice gasa (ne dajem gas).

✓  
Trebam nastaviti istom brzinom.

Ništa ne preduzimam, pešak mora da se skloni sa puta.






1064. Šta trebate imati u vidu u ovoj situaciji?

- ✓ Nastavću kretanja bez zaustavljanja pošto je upaljeno zeleno svetlo na semafor

Moram se zaustaviti ispred raskrsnice.



Dozvoljena promena saobraćajnih traka.

1065. Šta treba uzeti u obzir u ovoj situaciji?

- ✓ Na putu možete naići na bicikliste i pješake, jer im je staza završen.

Deo puta na kome je zabranjeno kretanje biciklistima i pešacima.

Staza trčanje za bicikliste i pešake.



1066. Kako se biciklisti kreću u ovoj situaciji?

Pravilno.

- ✓ Nepravilno.

Pravilno samo danju.



1067. Šta trebate imati u vidu u ovoj situaciji?

- ✓ Ne smem da uđem u ovu ulicu.

Uključite sve pokazivače pravca.

Nastaviću da se krećem pravo, pješaci se moraju kretati trotoarom.



1068. Šta trebate imati u vidu u ovoj situaciji?

Dozvoljeno je parkiranje na trotoaru.

✓ Zabranjeno je zaustavljanje i parkiranje na oba strane puta.

Zaustavljanje ispred saobraćajnih znakova.



1069. Kako se treba obeležiti vozilo zaustavljeno na autoputu?

Treba se postaviti trokut bezbednosti u rastojanju od 200 m iza zaustavljenog vozila.

Treba se postaviti trokut bezbednosti u rastojanju od najmanje 50 m iza zaustavljenog vozila.

✓ Trebaju se uključiti svi pokazivači pravca.




1070. Tokom vožnje naišli ste na situaciji kao na slici. Šta trebate imati u vidu?

✓ Iza krivine može biti neko vozilo koje se kreće polako.

Naglo kočenje usred krivine.

Dozvoljena mi je promena trake i povećaću oprez.



1071. Šta trebate imati u vidu u ovoj situaciji?

✓ Mogu naići na domaće životinje na putu.

Na smanjenje bezbednosnog rastojanja prema vozilu koje se kreće ispred.

Divljaci na putu.



1072. **Kako ćete postupiti ukoliko se lopta skotrlja ispred vas?**

- ✓ Smanjiću brzinu i biću spreman za kočenje pošto deca mogu trčati za loptom.

Upotrebiću zvučni znak (sirenu) i nastaviću kretanje istom brzinom.

Pošto se deca ne nalaze na putu, nastaviću povećanom brzinom.



1073. **Šta trebate imati u vidu u ovoj situaciji?**

- ✓ Opasno levo skretanje i podešavanje brzine u zavisnosti od polumjer krivine

Na opasnu krivinu u desno.

Na povećanje brzine na ulasku u krivinu.



1074. **Kako trebate postupiti u ovoj situaciji?**

- ✓ Vozila koja se kreću naspram autobusa moraju se zaustaviti dok deca ne uđu ili siđu iz autobusa.

Autobus mora da se kreće unazad.

Vozila koja se kreću iza autobusa moraju da nastave kretanje povećanom brzinom.



1075. **Kakvu pažnju trebate imati tokom vožnje u teškim atmosferskim uslovima?**

Nije mi dozvoljeno da menjam saobraćajnu traku.

- ✓ Kretaću se pod dodatnim oprezom, prilagođavajući brzinu kretanja.

Koristiću duga svetla za osvetljenje puta, da se put vidi što bolje.



1076. **Kako trebate postupiti u ovoj situaciji?**

- ✓ Vozila koja se kreću iz suprotnog smjera autobusa moraju se zaustaviti dok deca ne uđu ili siđu iz autobusa.

Autobus mora da se kreće unazad.

Vozila koja se kreću naspram autobusa moraju da nastave kretanje povećanom brzinom.



1077. **Kakvu pažnju trebate posvetiti u ovoj situaciji?**

Parking mesto za kamione.

- ✓ Povećan oprez prema pešacima.

Stajalište za autobuse.



1078. **Šta trebate imati u vidu u ovoj situaciji?**

Dozvoljeno mi je kretanje levo.

Put je slobodan, nastaviću kretanje bez zaustavljanja.

- ✓ Dozvoljeno mi je da se krećem pravo i desno.



1079. **Šta trebate imati u vidu u ovoj situaciji?**

- ✓ Dozvoljen mi je nastavak kretanja samo napred.

Dozvoljena mi je promena trake levo.

Dozvoljena mi je promena trake desno.



1080. Šta trebate imati u vidu u ovoj situaciji?

✓ Prećiću u levu traku.

Trebam da stanem na mestu dok nema vozila na putu.

Nije mi dozvoljena promena trake.



1081. Šta trebate imati u vidu u ovoj situaciji?

✓ Prilagodiću brzinu kretanje, pešak može iznenadno preći put.

Put na kojem se saobraćaj odvija u jednom smeru.

Nije mi dozvoljeno dalje kretanje.



1082. Da li je dozvoljeno kretanje preko duplih punih uzdužnih linija?

Da.

✓ Ne.

Da, ako se drugi učesnici ne ometaju.



1083. Šta trebate imati u vidu u ovoj situaciji?

Nastaviću kretanje bez zaustavljanja, put je slobodna.

✓ Poštovaću znak "zabranjeno skretanje levo".

Obavezno ću skrenuti u levo.



1084. **Koje je ponašanje ispravno u ovoj situaciji?**

Moram da skidam nogu sa papučice gasa (ne dajem gas).

Trebam nastaviti istom brzinom.

- ✓ Ništa ne preduzimam, put je slobodan, nastaviti kretanje poštujući ograničenje maksimalne brzine




1085. **Šta trebate imati u vidu u situaciji na slici?**

Obavezno skretanje u desno.

- ✓ Trebam se kretati napred.

Dozvoljena mi je promena trake.



1086. **Kakvu pažnje trebate imati tokom vožnje van urbanog područja u ovoj situaciji?**

- ✓ Na uzdužnoj sigurnosnoj udaljenosti.

Na sigurnosnoj udaljenosti od najmanje 200 metara.

Preticanje kamiona je dozvoljeno, put je slobodan.



1087. **Kako trebate postupiti u ovoj situaciji?**

Zvučnim znakom (sirenom) upozoriću pešaka da se skloni sa puta.


- ✓ Zaustaviću se da bih dao prvenstvo prelaza pešaku.

Nastaviću kretanje bez zaustavljanja.



1088. Šta trebate imati u vidu u situaciji na slici?

- ✓ U uzastopnim krivinama, prvo levo.
- Na delu puta u kome je zabranjeno preticanje vozila.
- Na preporučenoj brzini kretanja.



1089. Šta trebate imati u vidu u situaciji na slici?

- Na parkingu za vozila.
- Na sportskom terenu gde se djeca igraju.
- ✓ Na delu puta na kojem se deca mogu igrati.



1090. Šta trebate imati u vidu u ovoj situaciji?

- ✓ Dozvoljeno mi je kretanje unapred ili desno.
- Dozvoljena mi je promena trake.
- Treba da se zaustavim ispred raskrsnice.



1091. Kako ćete postupiti u ovoj situaciji?

- Zaustaviću se.
- ✓ Nastaviću kretanje unapred ili u desno.
- Nastaviću kretanje samo u levo.



1092. Šta trebate imati u vidu u ovoj situaciji?

Na delu puta u kome je zabranjeno preticanje vozila.

✓ Kontakt guma sa putem se znatno umanjuje.

Nije mi dozvoljeno da menjam saobraćajnu traku.



1093. Koje je ponašanje ispravno u ovoj situaciji?

Kočiti.

✓ Blizina mesta gde mogu sresti decu na ulici i volju nastavite da vozite sa povećanim oprezom

Treba da se zaustavim ispred znaka



1094. Vozač putničkog vozila ulazi u saobraćaj kretanjem unazad. Kako ocenjujete ovu situaciju?.

Pravilno, ukoliko ne ometa ostale učesnike u saobraćaju.

Pravilno, ukoliko uključi sve pokazivače pravca.

✓ Neppravilno.



1095. Koje je ponašanje ispravno u ovoj situaciji?

✓ Kočiti.

Trebam nastaviti istom brzinom.


Ništa ne preduzimam, put je slobono.






1096. **Koje vozilo se kreće pravilno?**

- ✓ Vozilo br.1
- ✓ Vozilo br.2
- ✓ Vozilo br.3



1097. **Šta trebate imati u vidu kada se želite priključiti u saobraćaj sa zemljanog puta, kao na slici?**

- ✓ Daću prvenstvo prolaska svim vozilima koja se kreću na putu.
- Imam prvenstvo prolaza u odnosu na vozila koja se kreću na putu.
- Ne signaliziraću pokazivačima pravca, jer put je slobodno.



1098. **Šta trebate imati u vidu tokom vožnje na ovoj situaciji?**

Treba da se krećem maksimalnom brzinom koju vozilo razvija.

Nije dozvoljeno je kretanje tramvajskom prugom.

- ✓ Dozvoljeno je kretanje tramvajskom prugom.



1099. **Šta trebate imati u vidu tokom vožnje u ovoj situaciji?**

Nastavite kretanje samo sa pozicionim svjetlima.

- ✓ Mogu biti neprimećeni pravovremeno pešaci i vozila koja nemanju sopstveno osvetljenje.

Koristiće duga svetla tokom vožnje.



1100. Šta trebate imati u vidu u situaciji na slici?

Nije mi dozvoljeno da menjam saobraćajnu traku.

✓ Smanjiću brzinu i biću spreman za kočenje.

Trebam se zaustaviti na mestu dok ne prođu deca.



1101. Koji rizici mogu biti tokom vožnje u ovoj situaciji?

Zbog korišćenje zimske opreme.

Povećanje vreme reagovanja.

✓ Saobraćajni znaci su pokriveni.



1102. Šta trebate imati u vidu u situaciji na slici?

✓ Za skretanje desno se poštuje saobraćajni znak.

Moram da se zaustavim pre raskrsnice.

Moram snažno kočiti.



1103. Šta trebate imati u vidu u situaciji na slici?

Planinski prevoj.

✓ Prilagođavam brzinu u blizini kružnog toka.

Najmanja dozvoljena brzina.



2001. Saobraćajni znak upozorava na opštu opasnost na putu.

- ✓ Tačno.  
Netačno.



2002. Saobraćajni znak upozorava na blizinu opasne krivine nalevo.

- ✓ Tačno.  
Netačno.



2003. Saobraćajni znak upozorava na blizinu opasne krivine nalevo.

- Tačno.  
✓ Netačno.



2004. Saobraćajni znak upozorava na uzastopne krivine od kojih je prva nadesno.

- ✓ Tačno.  
Netačno.



2005. Saobraćajni znak upozorava na slijepe ulice.

- Tačno.  
✓ Netačno.



2006. Saobraćajni znak upozorava na suženje kolovoza sa desne strane.

- ✓ Tačno.  
Netačno.



2007. Saobraćajni znak upozorava na neravne puteve.

- ✓ Tačno.  
Netačno.



2008. Saobraćajni znak upozorava na parkiranje automobila na trotoaru.

- Tačno.  
✓ Netačno.



2009. **Saobraćajni znak upozorava na klizav kolovoz.**

✓ Tačno.

Netačno.



2010. **Saobraćajni znak upozorava na tramvajsku prugu.**

Tačno.

✓ Netačno.



2011. **Saobraćajni znak upozorava na pršti kamenja.**

Tačno.

✓ Netačno.



2012. **Saobraćajni znak upozorava na blizinu obeleženog pešačkog prelaza.**

✓ Tačno.

Netačno.



2013. **Saobraćajni znak upozorava na blizinu obeleženog pešačkog prelaza.**

Tačno.

✓ Netačno.



2014. **Saobraćajni znak upozorava na blizinu dece na putu .**

✓ Tačno.

Netačno.



2015. **Saobraćajni znak označava zabranu saobraćaja za bicikliste.**

Tačno.

✓ Netačno.



2016. **Saobraćajni znak označava deo puta na kojem je zabranjeno kretanje životinja bez nadzora.**

Tačno.

✓ Netačno.



2017. **Saobraćajni znak upozorava na neravan put.**

Tačno.

✓ Netačno.



2018. Saobraćajni znak upozorava na opasnu nizbrdicu.

✓ Tačno.

Netačno.



2019. Saobraćajni znak upozorava na blizinu raskrsnice koju reguliše semafor.

✓ Tačno.

Netačno.



2020. Saobraćajni znak upozorava da se saobraćaj odvija u jednom pravcu.

Tačno.

✓ Netačno.



2021. Saobraćajni znak upozorava na razmak između vozila.

Tačno.

✓ Netačno.



2022. Saobraćajni znak upozorava na blizinu željezničke pruge sa branikom ili polubranikom.

✓ Tačno.

Netačno.



2023. Saobraćajni znak upozorava na podvožnjak za drumska vozila.

Tačno.

✓ Netačno.



2024. Saobraćajni znak upozorava na tramvajsku stanicu.

Tačno.

✓ Netačno.



2025. Saobraćajni znak upozorava gde divljači prelaze put.

Tačno.

✓ Netačno.



2026. **Saobraćajni znak upozorava drumsku rasvetu.**

Tačno.



Netačno.



2027. **Saobraćajni znak upozorava na željeznički prelaz neobezbeđen.**



Tačno.

Netačno.



2028. **Saobraćajni znak upozorava na suženje puta sa leve strane.**

Tačno.



Netačno.



2029. **Saobraćajni znak upozorava na pokretni most.**



Tačno.

Netačno.



2030. **Saobraćajni znak upozorava na pokretni most.**

Tačno.



Netačno.



2031. **Saobraćajni znak upozorava na kameni pršti.**



Tačno.

Netačno.



2032. **Saobraćajni znak upozorava na mestu aerporta.**

Tačno.



Netačno.



2033. **Saobraćajni znak upozorava na železničku pruge sa branikom ili polubranikom.**



Tačno.

Netačno.



2034. **Saobraćajni znak upozorava na deo puta na kojem je zabranjeno kretanje pešaka.**

Tačno.



Netačno.



2035. Saobraćajni znak upozorava na ogradu puta.

Tačno.

✓ Netačno



2036. Saobraćajni znak upozorava na tunel ili galeriju na putu.

✓ Tačno.

Netačno.



2037. Saobraćajni znak upozorava na blizinu raskrsnice sa kružnim tokom.

✓ Tačno.

Netačno.



2038. Saobraćajni znak upozorava na deo puta na kojem bi moglo biti odron kamenja.

✓ Tačno.

Netačno.



2039. Saobraćajni znak ukazuje na radove na putu.

✓ Tačno.

Netačno.



2040. Saobraćajni znak upozorava na opasan uspon.

✓ Tačno

Netačno.



2041. Saobraćajni znak upozorava na raskrsnicu puteva jednakog značaja.

Tačno.

✓ Netačno.



2042. Saobraćajni znak upozorava na raskrsnicu puteva jednakog značaja.

✓ Tačno.

Netačno.



2043. Koji znak najavljuje blizinu mesta gde često duva bočni vetar?



2044. Koji znak upozorava na blizinu mjesta gdje može biti led na putu?



2045. Koji znak upozorava na opasno uspon?



2046. Koji znak upozorava na suženje puta?



2047. Koji saobraćajni znak upozorava na dio puta na kojem kamenje može pasti (obrušiti se) na put.



2048. Koji saobraćajni znak označava radove na putu?



2049. Koji saobraćajni znak upozorava na klizav put?



2050. Koji saobraćajni znak upozorava na raskrsnicu glavnog puta sa sporednim putem pod pravim uglom?



2051. Koji znak upozorava na zaštitnu ili poluzaštićeni pružni prelaz?



2052. Koji znak upozorava na blizinu uzletišta?





2053. Koji znak upozorava na blizinu mesta gde kolovozni nasip nije stabilan?



2054. Koji znak upozorava na blizinu nizbrdica?



2101. Saobraćajni znak pokazuju obavezno zaustavljanje.

✓ Tačno.

Netačno.



2102. Saobraćajni znak pokazuje put sa prvenstvom prolaza.

Tačno.

✓ Netačno.



2103. Saobraćajni znak pokazuje prestanak svih zabrana.

Tačno.

✓ Netačno.



2104. Saobraćajni znak pokazuje zabranu saobraćaja u jednom smeru.

✓ Tačno.

Netačno.



2105. Saobraćajni znak pokazuju put za kretanje automobila.

Tačno.

✓ Netačno.



2106. Saobraćajni znak pokazuje saobraćajnu traku za autobuse.

Tačno.

✓ Netačno.



2107. Saobraćajni znak pokazuje parking mesto za kamione.

Tačno.

✓ Netačno.



2108. Saobraćajni znak pokazuju zabranu saobraćaja za cisterne.

✓ Tačno.

Netačno



2109. Saobraćajni znak pokazuje zabranu saobraćaja za pešake.

✓ Tačno.

Netačno.



2110. Saobraćajni znak pokazuje zabranu saobraćaja za vozila koja prekoračuju određenu širinu.

✓ Tačno.

Netačno.



2111. Saobraćajni znak pokazuje zabranu saobraćaja za vozila koja prekoračuju određenu visinu.

Tačno.

✓ Netačno.



2112. Saobraćajni znak pokazuje zabranu saobraćaja za vozila koja prekoračuju određenu visinu.

Tačno .

✓ Netačno.



2113. Saobraćajni znak pokazuje zabranu saobraćaja za vozila koja prekoračuju određeno osovinsko opterećenje.

✓ Tačno.

Netačno.



2114. Saobraćajni znak pokazuje zabranu saobraćaja za vozila koja prekoračuju određenu dužinu

✓ Tačno.

Netačno.



2115. Saobraćajni znak pokazuje zabranu saobraćaja za vozila koja prekoračuju određenu dužinu.

Tačno.

✓ Netačno.



2116. Saobraćajni znak pokazuje obavezno skretanje nadesno.

Tačno.

Netačno.



2117. Saobraćajni znak pokazuje motoput.

Tačno.

Netačno.



2118. Saobraćajni znak pokazuje ručna kolica.

Tačno.

Netačno.



2119. Saobraćajni znak, pokazuje deo puta kojim treba da se kreću traktori.

Tačno.

Netačno.



2120. Saobraćajni znak pokazuje zabranu saobraćaja za mopeda.

Tačno.

Netačno.



2121. Saobraćajni znak pokazuje zabranu saobraćaja za bicikle.

Tačno.

Netačno.



2122. Saobraćajni znak označava dio puta kojim se biciklisti kreću u grupama.

Tačno.

Netačno.



2123. Saobraćajni znak pokazuje deo puta kojim treba da se kreću zaprežna vozila.

Tačno.

Netačno.



2124. Saobraćajni znak pokazuje zabranu saobraćaja za sva motorna vozila..

Tačno.

Netačno.



2125. **Saobraćajni znak pokazuje obavezan smer desno.**

Tačno.



Netačno.



2126. **Znak označava zabranu polukružnu okretanje.**



Tačno

Netačno



2127. **Saobraćajni znak pokazuje maksimalno ograničenje brzine.**



Tačno.

Netačno.



2128. **Saobraćajni znak pokazuje saobraćaj za automobile.**

Tačno.



Netačno.



2129. **Saobraćajni znak pokazuju zabranu preticanja za teretna vozila-kamione.**



Tačno.

Netačno.



2130. **Saobraćajni znak pokazuje da morate stati – carina.**



Tačno.

Netačno.



2131. **Saobraćajni znak pokazuje da morate stati – carina.**

Tačno.



Netačno.



2132. **Saobraćajni znak pokazuje put na kojem se saobraćaj odvija u jednom smeru.**

Tačno.



Netačno.



2133. **Saobraćajni znak pokazuje deo puta na kojem nije dozvoljena upotreba zvučnih znakova.**



Tačno.

Netačno.



2134. Saobraćajni znak ukazuje na prvenstvo prolaza za vozila iz suprotnog smera.

✓ Tačno.

Netačno.



2135. Saobraćajni znak pokazuje zabranu zaustavljanja i parkiranja.

✓ Tačno.

Netačno.



2136. Saobraćajni znak pokazuju parking zonu

Tačno.

✓ Netačno.



2137. Saobraćajni znak pokazuje zabranu parkiranja neparnim danima .

✓ Tačno.

Netačno.



2138. Saobraćajni znak označava zabranu parkiranja u neparnim danima.

Tačno.

✓ Netačno



2139. Saobraćajni znak označava upotrebu radara.

Tačno.

✓ Netačno.



2140. Saobraćajni znak pokazuje preporuku za brzinu.

Tačno.

✓ Netačno.



2141. Saobraćajni znak pokazuje da su obavezne rezervne gume.

Tačno.

✓ Netačno.



2142. Saobraćajni znak pokazuje stazu za bicikliste.

✓ Tačno.

Netačno.



2143. **Saobraćajni znak označava zabranu kretanja pješaka.**

Tačno.

✓ Netačno.



2144. **Saobraćajni znak pokazuje stazu za pešake i bicikle**

✓ Tačno.

Netačno.



2145. **Saobraćajni znak pokazuje konjski staza.**

✓ Tačno.

Netačno.



2146. **Saobraćajni znak pokazuje obavezan smer**

✓ Tačno.

Netačno.



2147. **Saobraćajni znak pokazuje zabranu saobraćaja u jednom smeru.**

Tačno.

✓ Netačno.



2148. **Saobraćajni znak pokazuje zabranu saobraćaja u ovom smeru.**

Tačno .

✓ Netačno.



2149. **Saobraćajni znak pokazuje obilaženje sa desne strane.**

✓ Tačno.

Netačno.



2150. **Saobraćajni znak pokazuju zabranu polukružnog okretanja.**

Tačno.

✓ Netačno.



2151. **Saobraćajni znak pokazuje da je dozvoljeno kretanje pravo i levo.**

✓ Tačno.

Netačno.



2152. Saobraćajni znak pokazuje da je dozvoljeno kretanje pravo i desno.



Tačno.

Netačno.



2153. Saobraćajni znak pokazuje dvo smerni put.

Tačno.



Netačno.



2154. Saobraćajni znak pokazuje obavezno obilaženje sa desne strane.

Tačno.



Netačno.



2155. Saobraćajni znak pokazuje obavezno obilaženje sa desne strane i leve strane.



Tačno.

Netačno.



2156. Saobraćajni znak pokazuje raskrslu sa kružnim tokom.



Tačno.

Netačno.



2157. Koji znak zabranjuje saobraćaj za motorna vozila, osim motocikla bez bočne prikolice?.



2158. Koji znak pokazuje zabranu saobraćaja za teretna vozila-kamiona?



2159. Koji znak pokazuje zabranu saobraćaja za vozila koja vuku priključno vozilo?



2201. Saobraćajni znak pokazuju obavezu uključivanja kratkih svetala kada vozilo učestvuje u saobraćaju.

Tačno.

Netačno.



2202. Saobraćajni znak pokazuje označen biciklist prelaz.

Tačno.

Netačno.



2203. Saobraćajni znak označava zabranu kretanja biciklistima.

Tačno.

Netačno.



2204. Saobraćajni znak pokazuje zabranu kretanja dece na putu.

Tačno.

Netačno.



2205. Saobraćajni znak pokazuje pokretne stepenice.

Tačno.

Netačno.





2206. Saobraćajni znak pokazuje put sa saobraćajem u jednom smeru.

✓ Tačno.

Netačno.



2207. Saobraćajni znak pokazuje put sa saobraćajem u oba smera.

Tačno.


✓ Netačno.



2208. Saobraćajni znak pokazuje put sa prvenstvom prolaza.

✓ Tačno.


Netačno.



2209. Saobraćajni znak pokazuje put sa prvenstvom prolaza.

Tačno.

✓ Netačno.



2210. Saobraćajni znak označava minimalnu dozvoljenu brzinu.

Tačno.

✓ Netačno.



2211. Saobraćajni znak pokazuje ograničenje brzine.

Tačno.

✓ Netačno.



2212. Saobraćajni znak pokazuje zbaranu preticanje.

Tačno.

✓ Netačno.



2213. Saobraćajni znak pokazuje da nije dozvoljeno preticanje za kamion.

Tačno.

✓ Netačno.



2214. Saobraćajni znak pokazuje prestanka ograničenje brzine

✓ Tačno.

Netačno.



2215. Saobraćajni znak pokazuje prestanka minimalna dozvoljena brzina.

✓ Tačno.

Netačno.



2216. Saobraćajni znak pokazuje mesto prestanka zabrane korišćenja kamere.

Tačno.

✓ Netačno.



2217. Saobraćajni znak pokazuje park u kojem se igraju deca sa loptom.

Tačno.

✓ Netačno.



2218. Saobraćajni znak pokazuje kraj mirne saobraćajne zone.

✓ Tačno.

Netačno.



2219. Saobraćajni znak pokazuje usmeravanje vozila.

Tačno.

✓ Netačno.



2220. Saobraćajni znak pokazuje završetak (smanjenje) saobraćajne trake.

✓ Tačno.

Netačno.



2221. Saobraćajni znak pokazuje da se ne smemo kretati brzinom manjom od 80 km/h.

Tačno.

✓ Netačno.



2222. Saobraćajni znak pokazuje preporučene brzine.

✓ Tačno.

Netačno.



2223. Saobraćajni znak označava bolnicu.

✓ Tačno.

Netačno.



2224. Saobraćajni znak prikazuje Međunarodni crveni krst.

Tačno.

✓ Netačno.



2225. Saobraćajni znak pokazuje mesto prestanka svih zabrana na tom putu.

✓ Tačno.

Netačno.



2226. Saobraćajni znak pokazuje upotrebu rezervne gume.

Tačno.

✓ Netačno.



2227. Saobraćajni znak pokazuje završetak biciklističke staze.

✓ Tačno.

Netačno.



2228. Saobraćajni znak prikazuje djecu na putu.

Tačno.

✓ Netačno.



2229. Saobraćajni znak pokazuje deo puta na kojem je zabranjeno jahanje.

Tačno.

✓ Netačno.



2230. Saobraćajni znak označava zonu ograničenja maksimalne brzine.

Tačno.

✓ Netačno.



2231. Saobraćajni znak pokazuje da je za određenu vrstu vozila na autoputu zabranjen saobraćaj (bicikli, mopedi, traktori...)

✓ Tačno.

Netačno.



2232. Saobraćajni znak pokazuje raskrnicu sa kružnim tokom.

✓ Tačno.

Netačno.



2233. Saobraćajni znak pokazuje prvenstvo prolaza kretanja u odnosu na vozila koja dolaze iz suprotnog smera.

✓ Tačno.

Netačno.



2234. Saobraćajni znak pokazuje obavezan smer za Mitrovicu.

Tačno.

✓ Netačno.



2235. Saobraćajni znak pokazuje tunel.

✓ Tačno.

Netačno.



2236. Saobraćajni znak pokazuje naziv luke kroz koju put prolazi.

Tačno.



Netačno.



2237. Saobraćajni znak pokazuje put usmeravanja vozila prema nazivima gradskih područja.



Tačno.



Netačno.



2238. Saobraćajni znak označava parking mjesto u ulici za autobuse.

Tačno.



Netačno.



2239. Saobraćajni znak pokazuje most preko reke.

Tačno.



Netačno.



2240. Saobraćajni znak označava kraj autoputa.



Tačno.

Netačno.



2241. Znak polazuje saobraćajnu traku za vozila javnog prevoza.



Tačno.

Netačno.



2242. Znak pokazuje put u jednom smeru.

Tačno.



Netačno.



2243. Znak pokazuje slepi put.

Tačno.

✓ Netačno



2244. Znak pokazuje međunarodni put.

✓ Tačno.

Netačno.



2245. Znak pokazuje istorijski spomenik.

Tačno.

✓ Netačno.



2246. Znak pokazuje planinski prevoj.

✓ Tačno

Netačno.



2247. Znak pokazuje regionalni put

✓ Tačno.

Netačno.



2248. Saobraćajni znak označava međunarodni put.

Tačno.

✓ Netačno.



2249. Znak pokazuje stajalište za autobus i Taxi.

Tačno.

✓ Netačno.



2250. Saobraćajni znak označava mesto parkiranja.

✓ Tačno.

Netačno.



2251. Znak pokazuje trajanje parkiranja



Tačno.

Netačno.



2252. Znak pokazuje zabranu saobraćaja za automobile.

Tačno.



Netačno.



2253. Znak označava kraj motoputa.



Tačno.

Netačno.



2254. Znak pokazuje stanicu prve pomoći.

Tačno.



Netačno.



2255. Znak pokazuje stajalište za autobusa.



Tačno.

Netačno.



2256. Znak pokazuje stajalište za tramvaje.



Tačno.

Netačno.



2257. Saobraćajni znak označava pešačku zonu.

✓ Tačno.

Netačno.



2258. Saobraćajni znak označava autobusku stajalištu.

Tačno.

✓ Netačno.



2259. Saobraćajni znak ukazuje na ćorsokak.

✓ Tačno.

Netačno.



2260. Saobraćajni znak označava kraj školske zone.

Tačno.

✓ Netačno.



2261. Saobraćajni znak ukazuje na indirektno skretanje levo.

✓ Tačno.

Netačno.



2262. Saobraćajni znak označava prelaz za pešake i bicikliste.

✓ Tačno.

Netačno.





2301. Prema ovoj situaciji, da li je pešačima dozvoljen prelaz puta?

Ne.



Da.



2302. Šta prikazuje semaforsko svetlo kao na slici?



Zabrana prelaska za pješake.

Slobodan prelaz za pešačke.

Semafor ne radi.



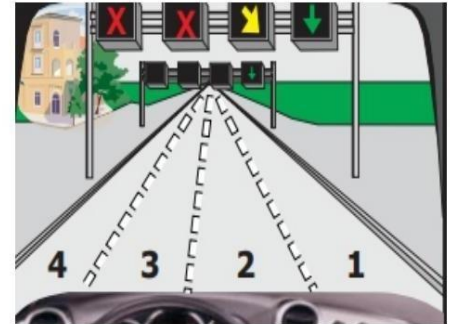
2303. Šta treba da imate u vidu u ovoj situaciji?

Dozvoljeno mi je da se krećem kroz traku 3 i 4.



Moram da pređem iz trake 2 u traku 1.

Mogu koristiti bilo koju traku za kretanje.



2304. Šta označava neprekidno žuto svetlo na semaforu?



Zabrana prolaska, osim za vozila koja se ne mogu bezbedno zaustaviti ispred semafora.

Slobodan prolaz.

Svi pokazivači pravca na vozilu moraju biti uključeni.



2305. Šta označava zeleno trepćeće svetlo (sa prekidom) na semaforu?



Upozorava vozača da će slobodan prelaz uskoro završiti.

Odmah zaustavljanje.

Semafor ne radi.

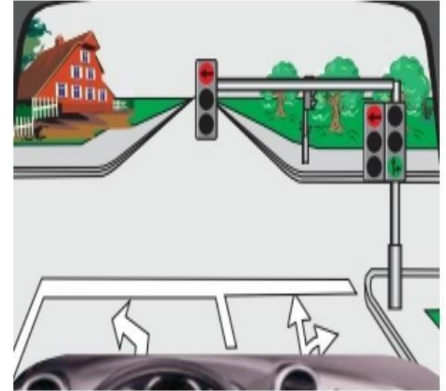


2306. U kojim pravcima je dozvoljeno kretanje u ovoj situaciji?

✓ Pravo.

✓ Desno.

Levo.



2307. Koji svetleći znak pokazuje slobodnu traku za kretanje?



✓

2308. Koji svetleći znak pokazuje da morate promeniti saobraćajnu traku?



✓

2309. Koji svetleći znak zabranjuje kretanje trakom iznad koje je postavljen znak?




✓

## 2401. Šta znači znak policajca kao na slici?

Učesnici u saobraćaju treba da ubrzaju kretanje svog vozila.

✓ Učesnici u saobraćaju moraju usporiti kretanje svog vozila.

Učesnici u saobraćaju moraju zaustaviti svoje vozilo.




## 2402. Koji učesnici u saobraćaju imaju slobodan prolaz prema položaju policajca?

Vozila dolaze sa desne strane policajca.

✓ Vozila dolaze sa leve strane policajca.

Vozila koja dolaze ispred i iza leđa policajca.



## 2403. Šta znači gore podignuta ruka policajca?

Učesnici u saobraćaju treba da se kreću sa povećanim oprezom.

Naredba policije odnosi se samo na motocikle.

✓ Zabrana za sve učesnike u saobraćaju.



## 2404. Kako ćete postupiti kada vas pretiće, mimoilazi vozilo kao na slici?

Nastaviću da se krećem povećanom brzinom kako ne bih ometao vozilo.

Upalit će sve pokazivače pravca.

✓ Moram da se pomerim na desnu stranu puta i da se zaustavim.



2405. Šta znači podignuta ruka policajca kao na slici?

✓ Zabrana prolaska za sve učesnike u saobraćaju.

Zabrana prelaska samo za pješake.

Propusnica lijevo za sve učesnike u saobraćaju.



2406. Koji učesnici imaju slobodan prolaz prema poziciji policajca na slici?

✓ Učesnici se kreću u pravcu ramena (krila).

Učesnici se kreću prema nazad.

Učesnici se kreću prema grudima.



2407. Šta pokazuje položaj policajca?

Kamion mora imati upaljene sve semafore.

✓ Kamion ima slobodan prolaz.

Kamion je blokiran.




2408. U kojim pravcima je zabranjeno kretanje prema položaju policajca?

✓ Desno, pravo i levo.

Samo desno.

Samo levo.



2501. Šta predstavlja isprekidana linija na putu?

- ✓ Dozvoljava preticanje.
- Slepa ulica.
- Zabranjuje preticanje.



2502. Šta predstavlja puna linija na putu?

- Omogućava preticanje vozila.
- Mesto gde se vozilo mora zaustaviti.
- ✓ Zabranjuje preticanje vozila.



2503. Šta predstavlja dvostruka kombinovana linija?.

- Omogućava preticanje sa obe strane.
- ✓ Zabrana preticanja sa strane na kojoj leži uzdužna linija.
- Dio puta gdje se put sužava.



2504. Šta predstavlja dvostruka puna linija?

- Kraj javnog puta.
- ✓ Sprečava prelazak vozila preko linija.
- Preticanje je dozvoljen.



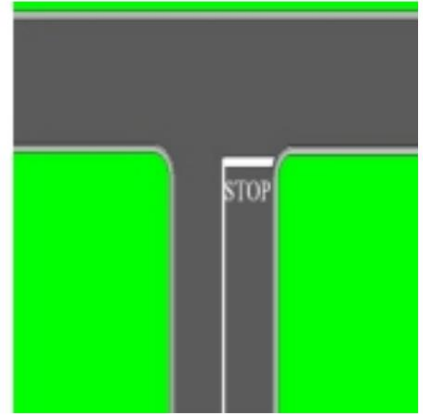
2505. **Kako ćete postupiti u situaciji kao na slici?**



Zaustavit ću se prije stop linije.

Nastaviću da se krećem pažljivo bez zaustavljanja.

Moram da promenim traku.




2506. **Kako ćete postupiti u situaciji kao na slici?**



Moram da stanem ispred poprečne linije.

Nastavit ću s povećanim oprezom i stati po potrebi.

Morate uključiti sve pokazivače pravca.



2507. **Šta predstavlja dvostruka kombinovana linija?**



Omogućava preticanje sa obe strane.

Dozvoljava preticanja sa strane na kojoj leži isprekidna linija.

Dio puta gdje se sužava.



2508. **Šta predstavlja isprekidana linija na putu?**



Početak deo puta gdje se sužava.

Razdvajanje saobraćajnih traka.

Zabranjuje preticanje vozila.



3001. **Bezbedna udaljenost između vozila tokom vožnje mora se značajno povećati ako je suv put.**

Tačno.



Netačno.



3002. **Biciklisti moraju imati reflektirajuću odeću ili bilo koji izvor svetlosti, tokom vožnje po putevima sa smanjenom vidljivošću.**



Tačno.

Netačno.




3003. **Vozilo se može zaustaviti na pješačkom prelazu zbog zastoja u saobraćaju.**

Tačno.



Netačno.



3004. **Put ima dve saobraćajne trake u jednom smeru kretanja, dozvoljeno je preticanje u ovoj situaciji.**



Tačno.

Netačno.



3005. **Bezbednosna udaljenost između vozila tokom vožnje van naselja treba da bude najmanje 2 sekunde.**

✓ Tačno.

Netačno.



3006. **U ovoj situaciji od znaka počinje put gde se saobraćaj odvija u oba smera.**

✓ Tačno.

Netačno.




007.

3007. **U ovoj situaciji vreme reagovanja je produženo i opasnost u saobraćaju se ne može primetiti.**

✓ Tačno.


Netačno.



3008. **U ovoj situaciji je dozvoljeno polukružno okretanje.**

Tačno.

✓ Netačno.





3009. **Snop dugih svjetala osvjetljavaju put u dužini od najmanje 40-80 m.**

Tačno.

Netačno.



3010. **Prilikom paljenja cigarete može dovesti do opasnih situacija u saobraćaju i vreme reakcije je produženo.**

Tačno.

Netačno.



3011. **Pešak van naselja kreće se pravo, sa desne strane puta u pravcu kretanja.**

Tačno.

Netačno.



3012. **Nije dozvoljeno je zaustavljanje i parkiranje u ovoj situaciji.**

Tačno.

Netačno.



3013. **Pre ulaska sa zemljanog puta na asfaltni put, morate ukloniti blato sa pneumatika.**

✓ Tačno.

Netačno.



3014. **Pešak van naselja kreće se ispravno, levom stranom kolovoza u pravcu kretanja.**

✓ Tačno.

Netačno.



3015. **Saobraćajni znak pokazuje obavezni pravac za Kosovo.**

Tačno.

✓ Netačno.



3016. **Put od trenutka pritiska na pedalu kočnice do potpunog zaustavljanja vozila naziva se zaustavni put.**

Tačno.

✓ Netačno.



3017. U ovoj situaciji, vozač će omogućiti pešaku da pređe ulicu i ako se kreće na neispravan način.

✓ Tačno.

Netačno.



3018. U ovoj situaciji, dozvoljena mi je promena trake za skretanje levo ako nema vozila otpozadi.

Tačno.

✓ Netačno.



3019. Dozvoljeno je preticanje traktora u ovoj situaciji, i ako je puna uzdužna linija na putu

✓ Tačno.


Netačno.



3020. Pešak može da pređe ulicu van naselja na mestu gde nema obeleženog pešačkog prelaza ako je pešački prelaz udaljen više od 100 metara.

✓ Tačno.

Netačno.



3021. U ovoj situaciji, zaustaviću vozilo i posmatrati ponašanje (radnje) deteta na biciklu.

✓ Tačno.

Netačno.



3022. Pešak može da pređe ulicu svaki put unutar naselja na mestu gde nema obeleženog pešačkog prelaza.

Tačno.

✓ Netačno.



3023. Starije osobe se smatraju ugroženim učesnicima u saobraćaju, jer njihovo kretanje može biti sporo.

✓ Tačno.

Netačno.



3024. Vozilo kojim upravlja lice sa invaliditetom mora da bude označeno odgovarajućim znakom.

Tačno.

✓ Netačno.



3025. **Zabranjeno je zaustavljanje i parkiranje vozila na autobuskim stajalištima unutar i van naselja.**



Tačno.

Netačno.



3026. **Zaustavljanje i parkiranje u ovoj situaciji je zabranjeno.**



Tačno.

Netačno.



3027. **Dozvoljeno polukružno okretanje na tunel, ako uzdužna linija je prekinuta.**

Tačno.



Netačno.




3028. **Dozvoliću slijepom licu (ko drži bijeli štap) da pređe put van pješačkog prelaza.**



Tačno.

Netačno.



3029. **Organizovana kolona pešaka kreće se neispravno u desnom smeru kretanja.**

Tačno.

✓ Netačno.



3030. **Dozvoljeno je preticanje u ovoj situaciji, ako se kamion kreće veoma sporo.**

Tačno.

✓ Netačno.



3031. **Ova saobraćajna situacija je nastala usled nepažnje vozača pri otvaranju vrata automobila (ne gledajući u ogledalo i u mrtvu uglu).**

✓ Tačno.

Netačno.



3032. **Na uzdužnoj padini nailazite na traktor, da biste omogućili prolaz, morate ga voziti unazad.**

✓ Tačno.

Netačno.



3033. **Dozvoljeno je parkiranje vozila ako su svi pokazivači pravca uključeni.**

Tačno.



Netačno.



3034. **Dozvoljeno je preticanje dva vozila istovremeno.**



Tačno.

Netačno.



3035. **Dozvoljeno je preticanje tramvaja sa desne i leve strane.**

Tačno.



Netačno.



3036. **Saobraćajni znak sa dopunskom tablom zabranjuje saobraćaj u oba smera od 20 do 24h.**



Tačno.

Netačno.



3037. **Dozvoljeno je preticanje sa obe strane u ovoj situaciji, pošto je uzdužna linija prekinuta.**

Tačno.

✓ Netačno.



3038. **Znak pokazuje suženje puta pod pravim uglom sa obe strane sa sporednih puteva.**

Tačno.

✓ Netačno.



3039. **Zabranjeno je zaustavljanje i parkiranje vozila na razmaku manjem od 5 metara ispred pešačkog prelaza.**

✓ Tačno.


Netačno.



3040. **Dozvoljeno preticanje u ovoj situaciji zbog prekinute razdelne linije, po pravilima (gledanje u ogledalu, mrtvi ugao i signalizacija).**

✓ Tačno.

Netačno.





3041. U ovoj situaciji dozvoljeno je parkiranje vozila do 15 minuta.

Tačno.

✓ Netačno.



3042. U ovoj situaciji treba da povećam oprez jer se približavamo se planinskom prevoju (izbočina na putu), mogu naići na vozilo koje se kreće mojom trakom.

✓ Tačno.

Netačno.



3043. Dozvoljeno je preticanje motokultivatora.

✓ Tačno.

Netačno.



3044. Ako se vozilo parkira na uzbrdici, prednji točkovi automobila se okreću prema sredini puta.

✓ Tačno.

Netačno.



3045. **Nije dozvoljeno je preticanje u ovoj situaciji.**

✓ Tačno.

Netačno.



3046. **Dozvoljeno je zaobilaženje, samo sa desne strane.**

Tačno.


✓ Netačno.



3047. **Dozvoljena brzina pri vučenju automobila u kvaru je 60 km/h.**

Tačno.

✓ Netačno.



3048. **Put od trenutka uočavanja opasnosti do pritiska na pedalu kočnice naziva se put reakcije.**

✓ Tačno.

Netačno.



3049. **Železnički prelaz je regulisan svetlećim znakovima i moram da se zaustavim.**

✓ Tačno.

Netačno.



3050. **Nije dozvoljeno je preticanje u ovoj situaciji.**

✓ Tačno.

Netačno.



3051. **Dozvoljeno je zaustavljanje ili parkiranje vozila u polju za orijentaciju drumskog saobraćaja.**

Tačno.

✓ Netačno.



3052. **Tokom vožnje vodiću računa jer mogu naići na kolonu zaustavljenu na putu.**

✓ Tačno.

Netačno.



3053. Vozaču vozila dozvoljeno povećanje brzine, dok ga pretičete, ako ne ometa saobraćaj.

Tačno.


✓ Netačno.



3054. U ovoj situaciji povećaću bočnu bezbednu udaljenost, jer pešak može da pređe put.

✓ Tačno.

Netačno.



3055. Teret u automobilu može da prelazi prednji deo do 1.5m.

Tačno.


✓ Netačno.



3056. u ovoj situaciji nije dozvoljeno kretanje pravo.

Tačno.


✓ Netačno.



3057. **Dozvoljeno je preticanje u ovoj situaciji.**

✓ Tačno.

Netačno.



3058. **Sigurnosni pojas se koristi u vožnji samo unutar naselja.**

Tačno.

✓ Netačno.



3059. **Da biste izašli sa autoputa, morate koristiti traku za usporovanje i signalizirate pokazivačima pravca.**

✓ Tačno.

Netačno.



3060. **Dozvoljeno je preticanje u ovoj situaciji.**

Tačno.

✓ Netačno.



3061. Od mesta na kojem su postavljeni znakovi ne smem se kretati brzinom većom od 50 km/h.

Tačno.



Netačno.



3062. Vožnja po dugom ravnom putu podstiče vozača na veću brzinu.



Tačno.

Netačno.



3063. Na ovom delu puta ne smem se kretati brzinom manjom od 20 km/h.

Tačno.



Netačno.



3064. U ovoj situaciji preticanje kočije nije dozvoljeno.

Tačno.



Netačno.



3065. **Vozilo iz suprotnog smera ima uključena duga svetla, trebalo bi da uradite isto, uključivši duga svetla da bolje vidi put.**

Tačno.



Netačno.



3066. **Vožnja dugim i ravnim putem nikada nije opasno, jer je vidljivost putu je dobra.**

Tačno.



Netačno.



3067. **Vozač je dužan da zaustavi automobil i ukloni sa kolovoza predmete na koje naiđe na putu.**

Tačno.



Netačno.



3068. **U ovoj situaciji morate zaustaviti automobil, a zatim nastaviti da se krećete istom brzinom, zbog radova na putu**

Tačno.



Netačno.



3069. Tokom vožnje u ovoj situaciji, u slučaju kočenja, vreme reakcije se povećava.

Tačno.



Netačno.



3070. Vozač koji se zatekne ili naiđe na mesto udesa na kojem ima povređenih lica, nije potrebno treba povređene odvesti u zdravstvenu ustanovu, to treba da uradi hitna pomoć.

Tačno.



Netačno.



3071. Ograničenje brzine do 40 km/h počinje od mesta na kojem je postavljen znak i važi do prve raskrsnice.



Tačno.

Netačno.



3072. Dozvoljeno je preticanje tramvaja sa desne i leve strane u ovoj situaciji.



Tačno.

Netačno.





3073. **Vozilo Hitne pomoći je na intervenciji, skloniću se i po potrebi smanjiti brzinu kretanja.**

✓ Tačno.

Netačno.



3074. **Tokom vožnje po jakom suncu u ovoj situaciji opasne saobraćajne situacije se možda neće primetiti.**

✓ Tačno.

Netačno.



3075. **Na ovom delu puta kretanje je dozvoljeno uz povećan oprez.**

Tačno.


✓ Netačno.



3076. **Dozvoljeno vam je da nastavite sa vožnjom ako ne možete bezbedno da se zaustavite raskrsnice.**

✓ Tačno.

Netačno.



3077. **Dozvoljeno je preticanje u ovoj situaciji.**

Tačno.

✓ Netačno.



3078. **Dete do 3 godine može se prevoziti vozilom samo do obdaništa.**

Tačno.

✓ Netačno.



3079. **Jaki bočni vetrovi predstavljaju opasnost samo za vozila na dva točka (bicikli, mopedi, motocikli bez bočnih prikolica).**

✓ Tačno.

Netačno.



3080. **Na nacionalnom put nije dozvoljeno kretanje unazad nikada.**

✓ Tačno.

Netačno.



3081. **Dozvoljeno je preticanje motocikla u ovoj situaciji**

Tačno.



Netačno.



3082. **Vozač automobila koji se priključio na putu iz dvorišta kuće ne mora pustiti pešake koji se kreću trotoarom.**

Tačno.



Netačno.



3083. **Prije vožnje vozač je dužan da vizuelno razgleda automobil.**



Tačno.

Netačno.



3084. **Prilikom skretanja desno, kao u ovoj situaciji, neću dati prednost pešacima, jer nema obeleženog pešačkog prelaza.**

Tačno.



Netačno.



3085. **Deca u saobraćaju nisu svesni opasnosti i vozači ih možda neće primetiti.**

✓ Tačno.

Netačno.



3086. **U ovoj situaciji uzimamo u obzir usmeravanje pravca i dužni smo da se krećemo samo udesno.**

✓ Tačno.

Netačno.



3087. **Tokom vožnje po zaleđenim putevima, put kočenja smanjuje se.**

Tačno.

✓ Netačno.



3088. **Na ovom putu saobraćaj se odvija samo u jednom smeru, iz parkiranih automobili može izaći neki pešak na ulici.**

✓ Tačno.

Netačno.



3089. **Preticanje nije dozvoljeno sa mesta na kojem je postavljen saobraćajni znak.**

Tačno.

✓ Netačno.



3090. **U ovoj situaciji, mesto opasnosti počinje od mesta postavljanja znakova.**

Tačno.

✓ Netačno.



3091. **Dozvoljeno kretanje unazad na tunel.**

Tačno.

✓ Netačno.



3092. **Od mesta postavljanja saobraćajnog znaka, preticanje nije dozvoljeno.**

✓ Tačno.

Netačno.



3093. U ovoj situaciji je dozvoljeno polukružno okretanje.

✓ Tačno.

Netačno.



3094. Saobraćajni znak Andrejin krst označava prelazak puta preko železničke pruge sa dva ili više koloseka.

Tačno.


✓ Netačno.



3095. U ovoj situaciji, paziću na bezbednu udaljenost od vozila auto-škole.

✓ Tačno.

Netačno.



3096. Crveni auto je dao znak za skretanje levo, vi treba da mu date prvenstvo prolaza jer dolazi sa desne strane.

Tačno.

✓ Netačno.



3097. Tokom mimoilaženje noću upaliti duga svetla da bi bolje videli put.

Tačno.

✓ Netačno.



3098. Prilikom izlaska iz automobila, vozač mora da gleda saobraćaj pozadi preko retrovizore i mrtvi ugao.

✓ Tačno.


Netačno.



3099. U ovoj situaciji dozvoljen je polukružno okretanje.

Tačno.

✓ Netačno.



3100. Za drugi (2) izlaz možete nastaviti kretanje samo kroz plavi putanju.

Tačno.

✓ Netačno.



3101. U ovoj situaciji , mesto na kojem se izvode radovi počinje od saobraćajnog znaka.

Tačno.

Netačno.



3102. Teret u automobilu koji prelazi zadnji dio više od 1 m, označava se crvenom tkaninom.

Tačno.

Netačno.



3103. Maksimalna brzina na nacionalnim putevima van naselja sa dve trake za jedan smer kretanja uz fizičko razdvajanje je 80 km/h.

Tačno.

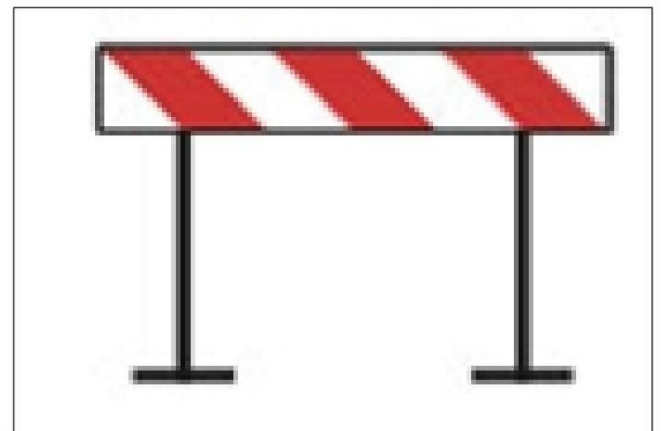
Netačno.



3104. Putna oprema pokazuje železnički prelaz sa zaštitom.

Tačno.

Netačno.



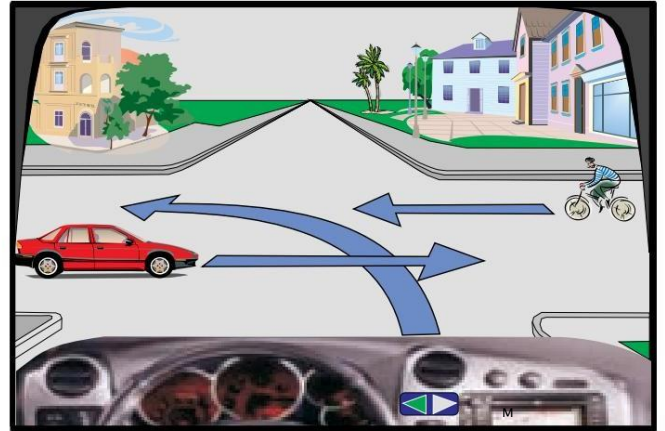


4001. Na ovoj raskrsnici crveni automobil kreće prvi.

Tačno.



Netačno.



4002. Na ovoj raskrsnici prednost prolaza imaju crveno vozilo i biciklista.



Tačno.

Netačno.



4003. Na ovoj raskrsnici ja ću kreći iza pešaka.



Tačno.

Netačno.

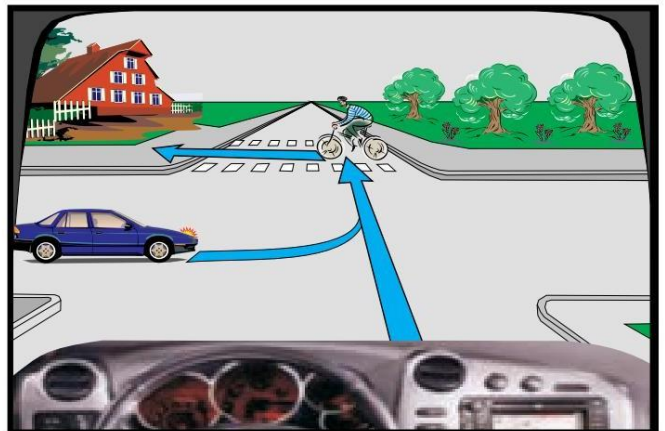


4004. Na raskrsnici plavi automobil kreće ispred bicikliste.

Tačno.



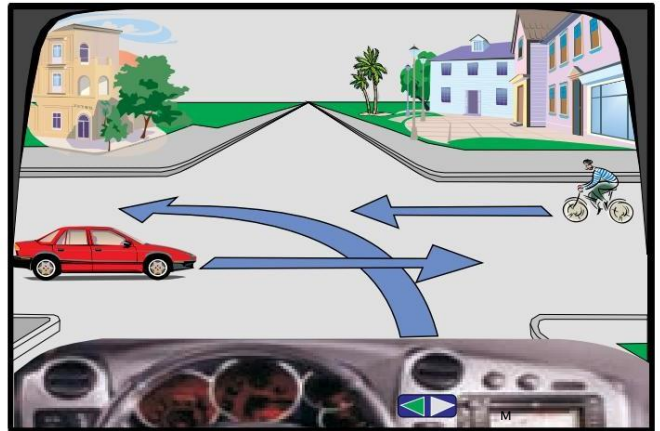
Netačno.



4005. Na ovoj raskrsnici redosled prvenstva prolaza treba da bude: biciklist, ja, crveni auto.

✓ Tačno.

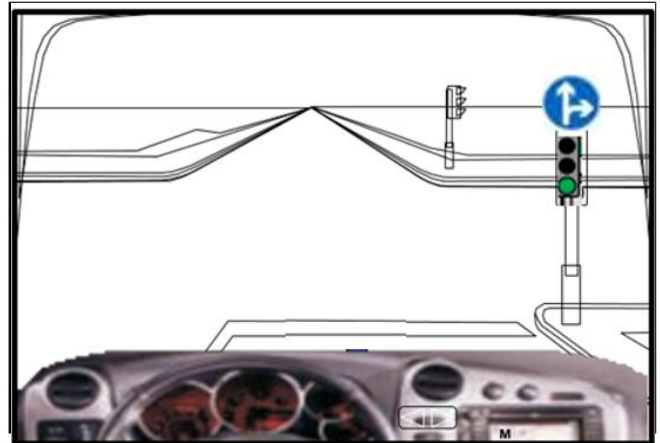
Netačno.



4006. Na ovoj raskrsnici mi je dozvoljeno da se krećem pravo ili levo bez zaustavljanja.

Tačno.

✓ Netačno.



4007. Na ovoj raskrsnici ću se kretati poslednji.

✓ Tačno.

Netačno.



4008. Na ovoj raskrsnici smijem se kretati desno i lijevo.

Tačno.

✓ Netačno.



4009. Na ovoj raskrsnici krećem drugi.



Tačno.

Netačno.



4010. Na ovoj raskrsnici ja ću kreći prvi.

Tačno.



Netačno.

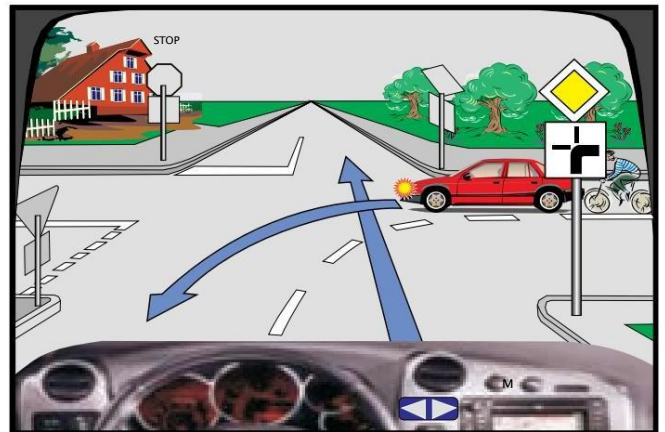


4011. Na ovoj raskrsnici crveni automobil kreće prvi.



Tačno.

Netačno.

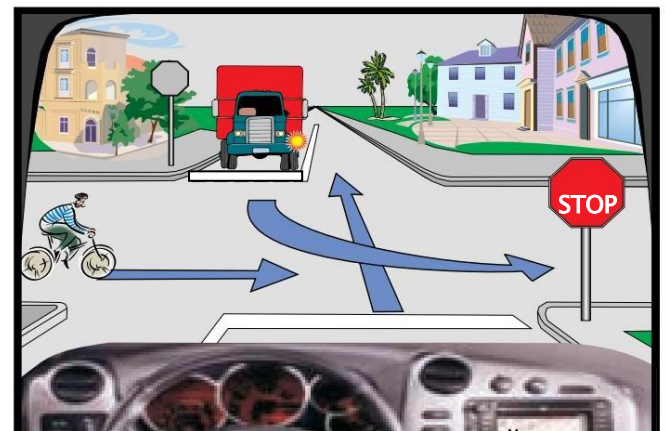


4012. Na ovoj raskrsnici redosled prvenstva prolaza treba da bude: ja, kamion, biciklist.

Tačno.



Netačno.



4013. Na ovoj raskrsnici prvi ću nastaviti kretanje.

Tačno.

Netačno.



4014. Na ovoj raskrsnici prvi kreće zeleni automobil.

Tačno.

Netačno



4015. Na ovoj raskrsnici mi je dozvoljeno da se krećem u levo bez zaustavljanja.

Tačno.

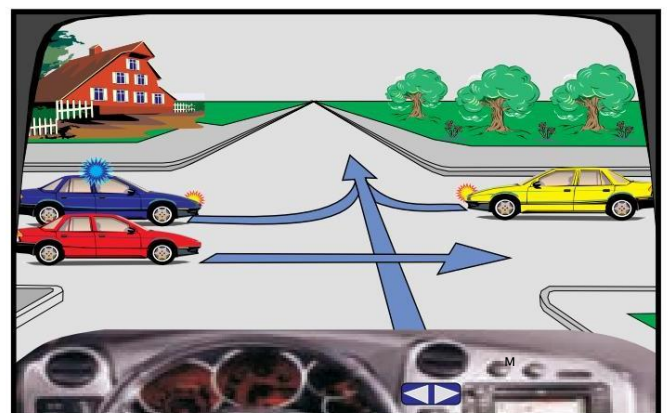
Netačno.



1016. Na ovoj raskrsnici crveni automobil kreće prvi.

Tačno.

Netačno



4017. Na ovoj raskrsnici prvo ću nastaviti kretanje.

✓ Tačno.

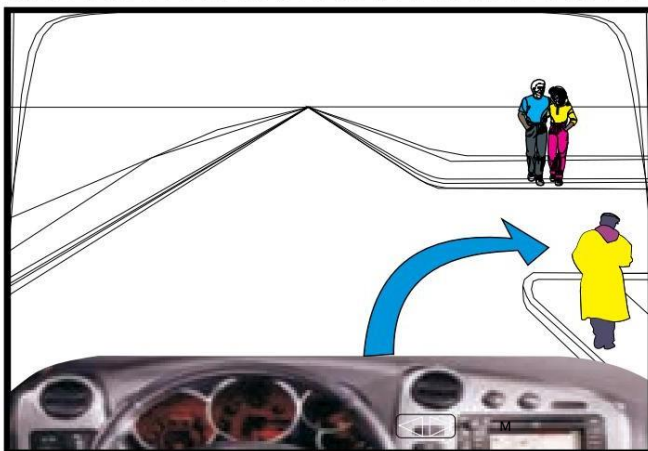
Netačno.



4018. Na ovoj raskrsnici imam prvenstvo prolaza nad pešacima.

Tačno.

✓ Netačno.



4019. Na ovoj raskrsnici, kamion kreće posljedni.

Tačno.

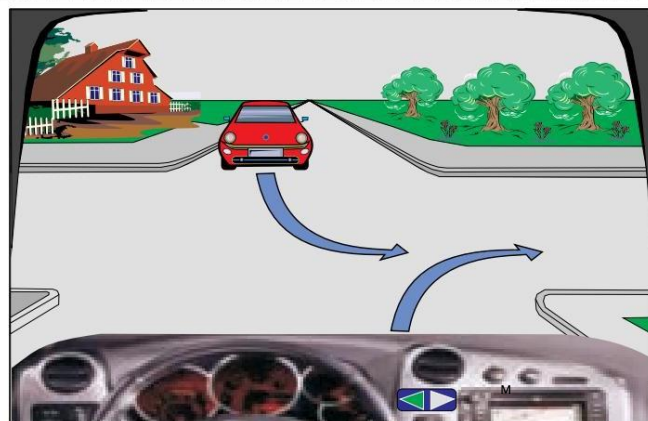
✓ Netačno.



4020. Na ovoj raskrsnici crveni auto kreće prvi.

Tačno.

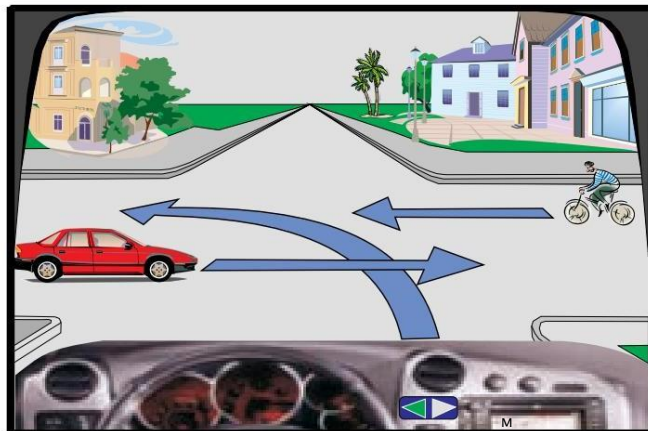
✓ Netačno.



4021. Na ovoj raskrsnici crveni auto se kreće poslednji.

✓ Tačno.

Netačno.



4022. Na ovoj raskrsnici, redosled prvenstva prolaza mora treba da bude: pešak, ja, plavi auto.

✓ Tačno.

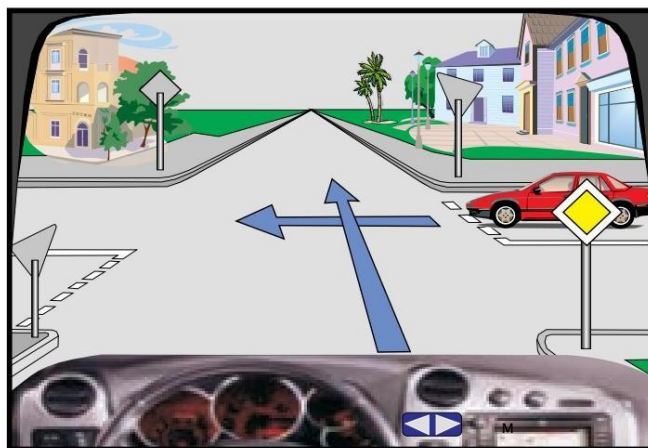
Netačno.



4023. Na ovoj raskrsnici crveni automobil kreće drugi.

✓ Tačno.

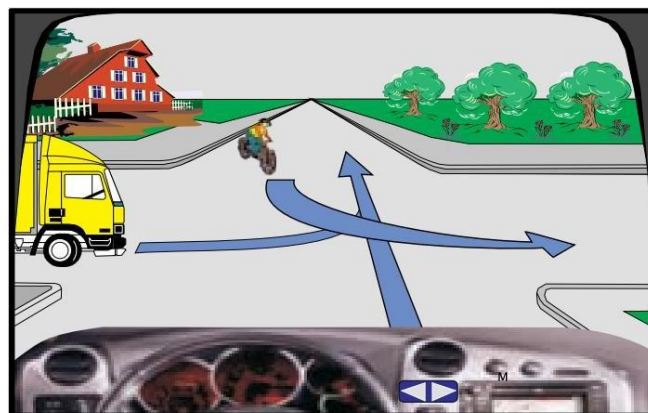
Netačno.



4024. Na ovoj raskrsnici redosled prvenstva prolaza treba da bude: biciklist, ja, kamion.

Tačno.

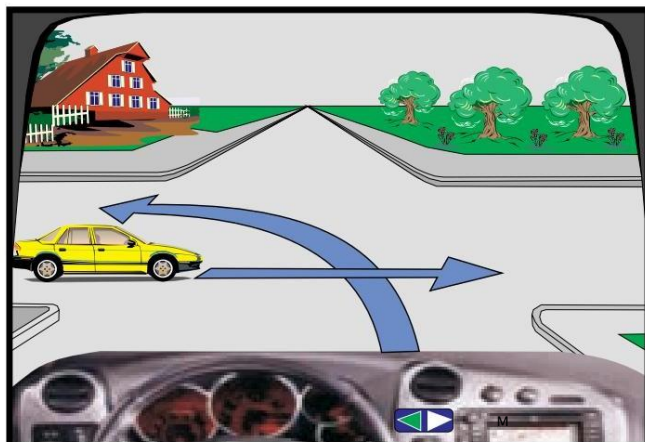
✓ Netačno.



4025. Na ovoj raskrsnici ja krećem prvi.

✓ Tačno.

Netačno.



4026. Na semaforu je upaljeno trepćuće žuto svetlo (sa prekidima), čekaću da se upali zeleno svetlo na semaforu.

Tačno.

✓ Netačno.



4027. Na ovoj raskrsnici crveni auto se kreće prvi.

✓ Tačno.

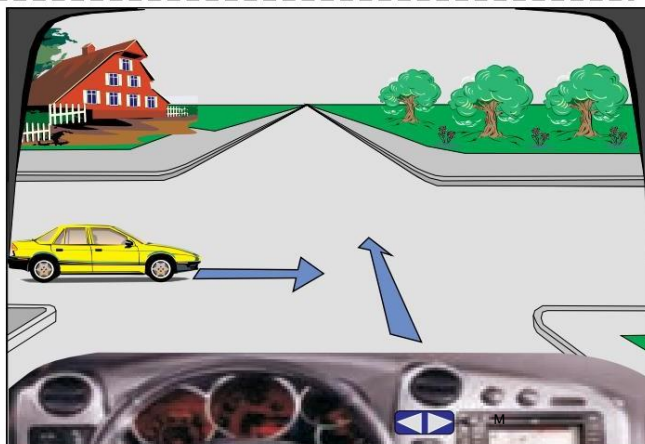
Netačno.



4028. Na ovoj raskrsnici prvi kreće žuti automobil.

Tačno.

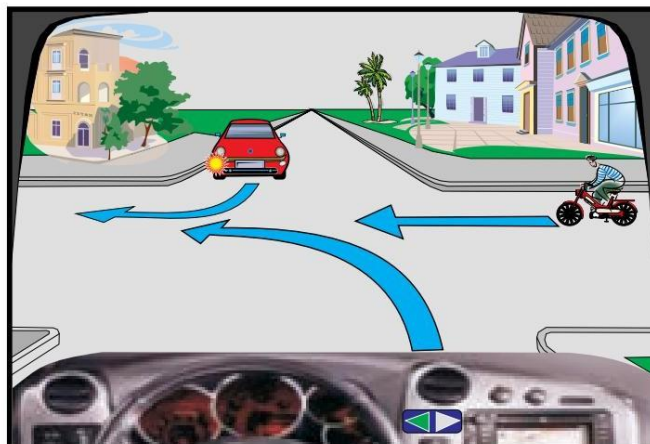
✓ Netačno.



4029. Na ovoj raskrsnici ja krećem prvi.

Tačno.

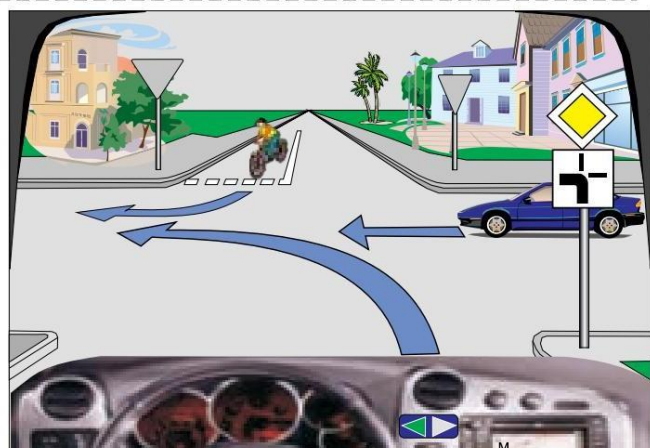
✓ Netačno.



4030. Na ovoj raskrsnici plavi auto se kreće zadnji.

✓ Tačno.

Netačno.



4031. Na ovoj raskrsnici moram skrenuti levo zbog dopunske table.

Tačno.

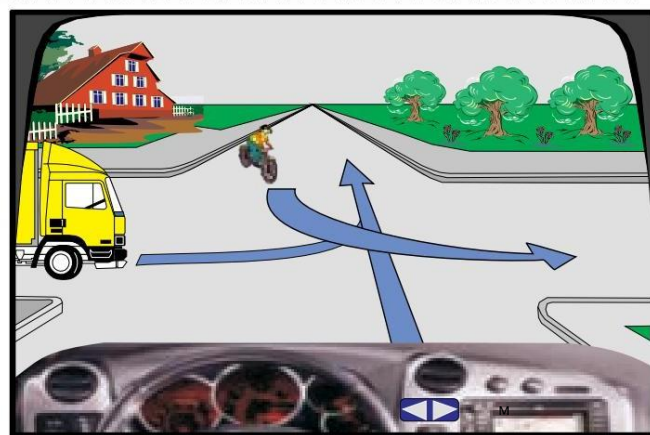
✓ Netačno.



4032. Na raskrsnici, redosled prvenstva prolaza treba da bude: ja, kamion, biciklista.

✓ Tačno.

Netačno.





4033. Na ovoj raskrsnici krećem drugi.

✓ Tačno.

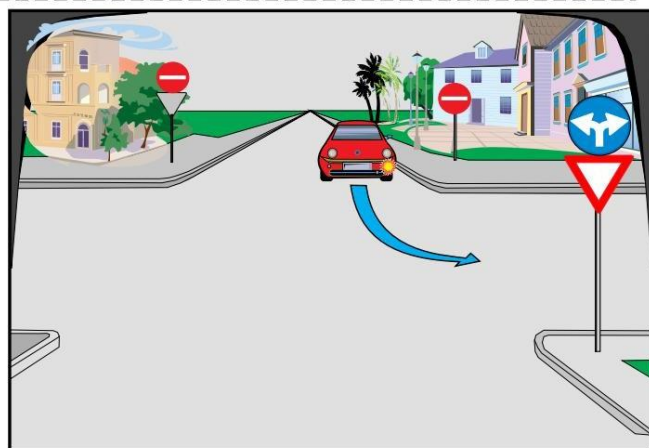
Netačno.



4034. Na ovoj raskrsnici automobil je prestrojen ispravno za skretanje levo.

✓ Tačno.

Netačno.



4035. Na ovoj raskrsnici prvi ću nastaviti kretanje.

Tačno.

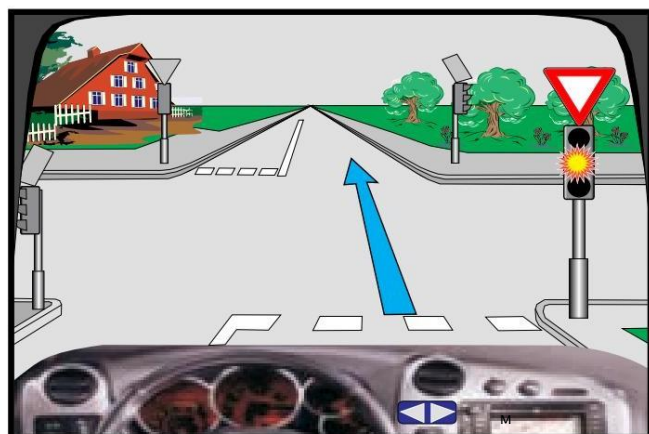
✓ Netačno.



4036. Na semaforu je upaljeno trepćuće žuto svetlo (sa prekidima), u ovoj situaciji moram stati ispred saobraćajnog znaka.

Tačno.

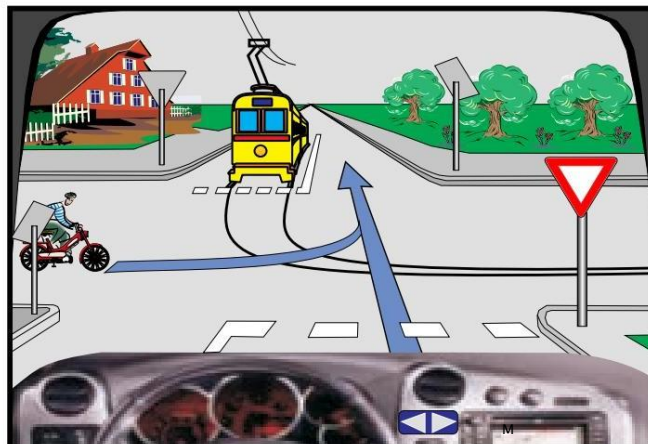
✓ Netačno.



4037. Na ovoj raskrsnici, redosled prvenstva prolaza treba da bude: tramvaj, moped, ja.

Tačno.

✓ Netačno.



4038. Na ovoj raskrsnici ja krećem prvi.

✓ Tačno.

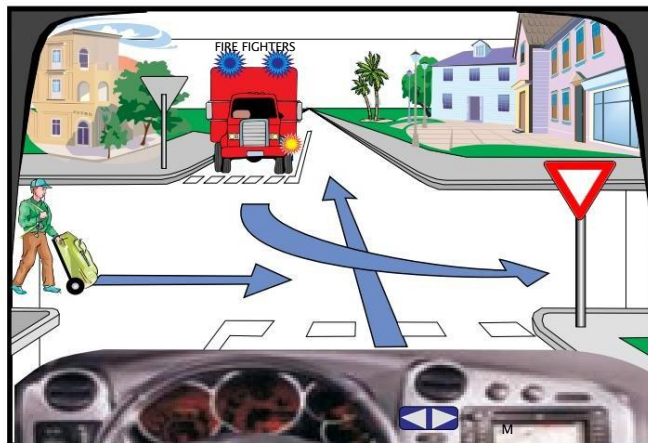
Netačno.



4039. Na ovoj raskrsnici redosled prvenstva prolaza treba da bude: kamion, pešak, ja.

✓ Tačno.

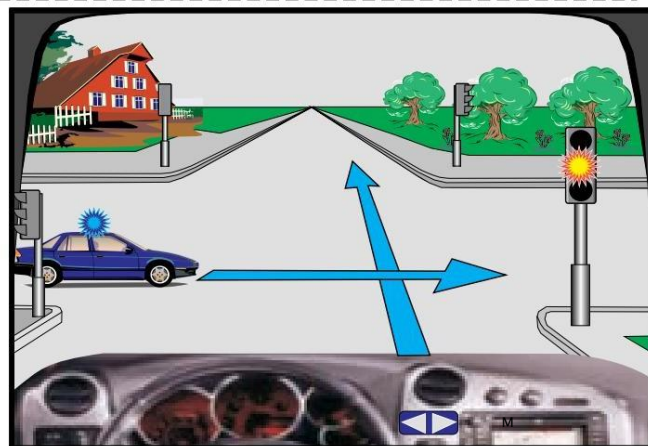
Netačno.



4040. Na ovoj raskrsnici prvo ću nastaviti kretanje.

Tačno.

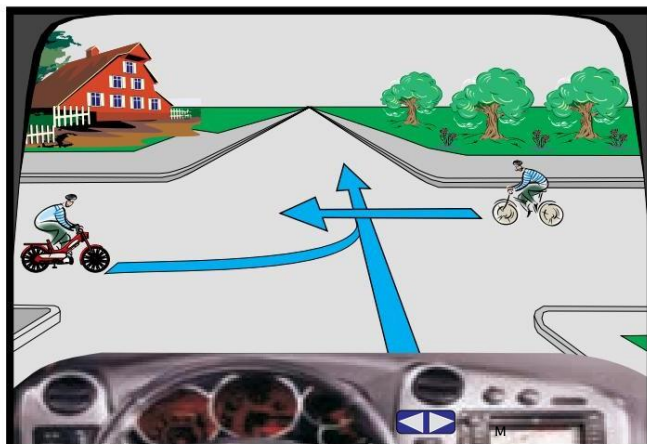
✓ Netačno.



4041. Na ovoj raskrsnici moped se prvi kreće.

Tačno.

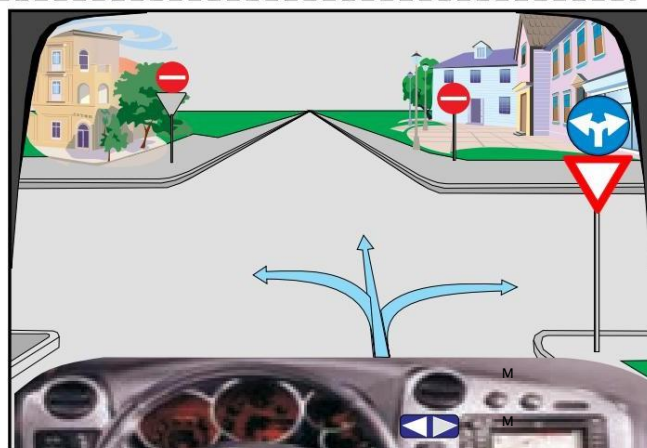
✓ Netačno.



4042. Na ovoj raskrsnici smijem se kretati lijevo i desno.

✓ Tačno.

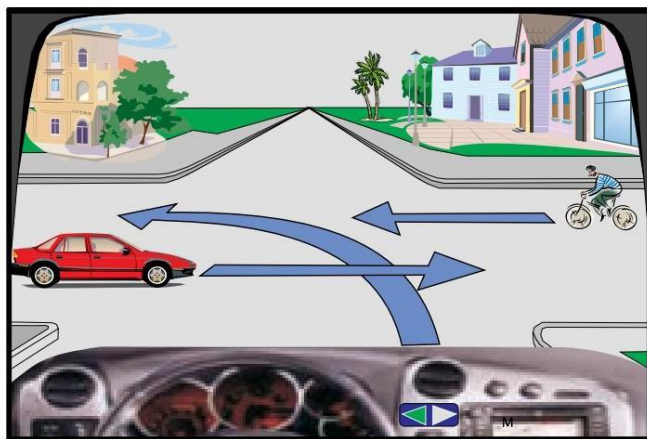
Netačno.



4043. Na ovoj raskrsnici, redosled prvenstva prolaza treba da bude: crveni auto, biciklista, ja.

Tačno.

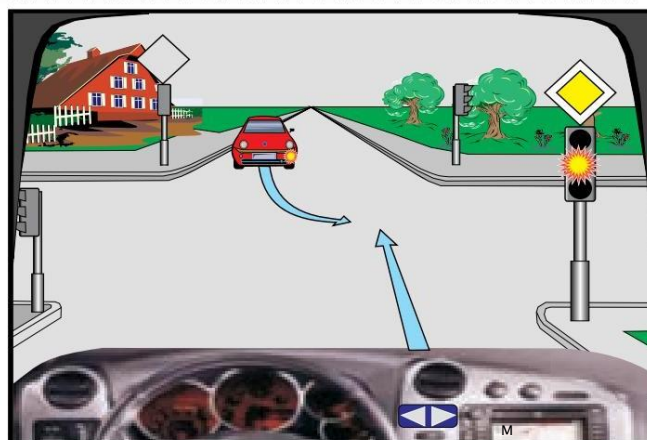
✓ Netačno.



4044. Na semaforu je upaljeno trepćuće žuto svetlo (sa prekidima), u ovoj situaciji ću nastaviti kretanje bez zaustavljanja.

✓ Tačno.

Netačno.



4045. Na ovoj raskrsnici prvi će se kretati biciklist.

✓ Tačno.

Netačno.



4046. Na ovoj raskrsnici smijem se kretati pravo, lijevo i desno bez zaustavljanja.

✓ Tačno.

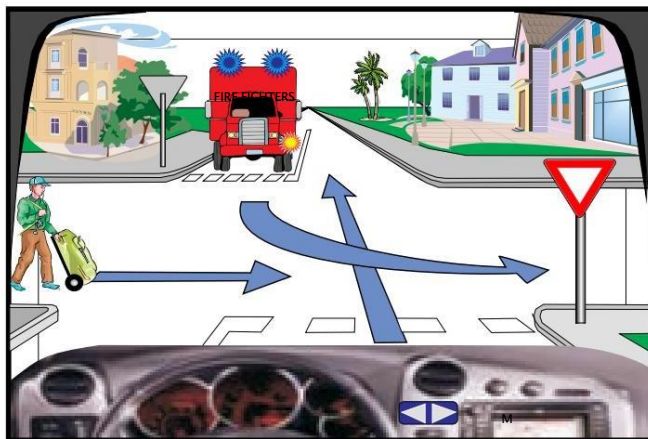
Netačno.



4047. Na ovoj raskrsnici, redosled prvenstva prolaza treba da bude: pešak, ja kamion.

Tačno.

✓ Netačno.



4048. Na ovoj raskrsnici ja krećem posle crvenog auto.

✓ Tačno.

Netačno.



4049. Na ovoj raskrsnici zeleni auto se mora zaustaviti.

Tačno.

✓ Netačno.



4050. Na ovoj raskrsnici nastavljam kretanje ispred bicikliste.

Tačno.

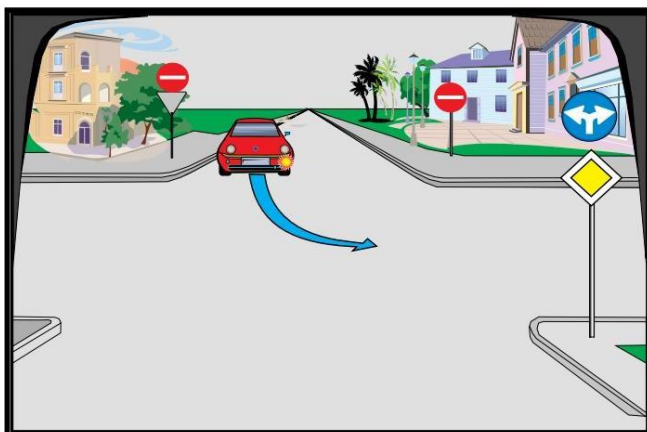
✓ Netačno.



4051. Na ovoj raskrsnici automobil je prestrojen ispravno, za skretanje levo.

Tačno.

✓ Netačno.



4052. Na ovoj raskrsnici prvi kreće žuti automobil.

Tačno.

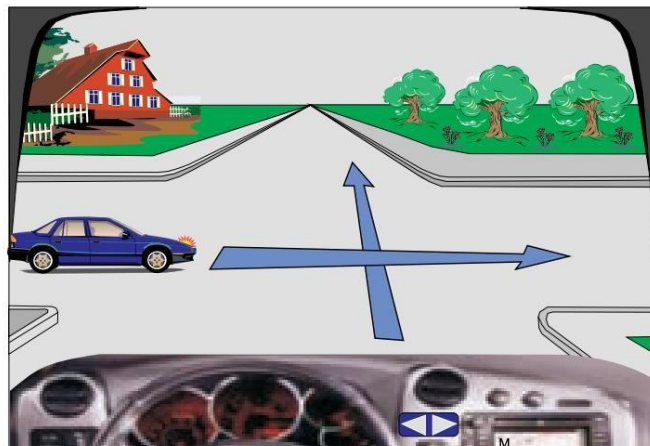
✓ Netačno.



4053. Na ovoj raskrsnici plavi automobil se kreće poslednji.

✓ Tačno.

Netačno.



4054. Na semaforu svetli trepćuće žuto svetlo. U ovoj situaciji nastaviću da se krećem sa povećanim oprezom.

✓ Tačno.

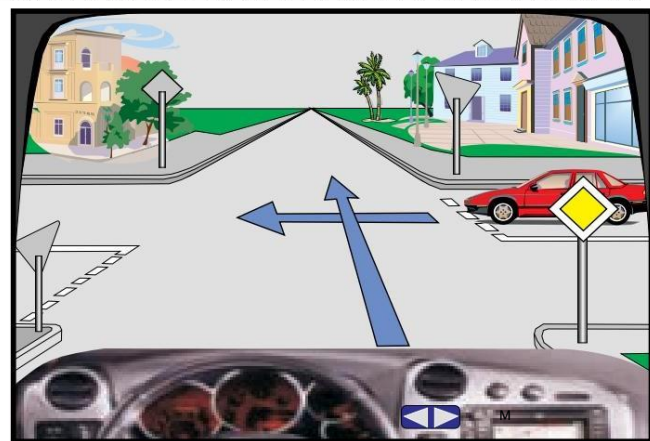
Netačno.



4055. Na raskrsnici vi krećete ispred crvenog auta.

✓ Tačno.

Netačno.



4056. Na ovoj raskrsnici, redosled prvenstva prolaza mora treba da bude: plavi auto, ja, pešak.

Tačno.

✓ Netačno.



4057. Na ovoj raskrsnici nastaviću da se krećem bez zaustavljanja.

Tačno.



Netačno.



M

4058. Na ovoj raskrsnici prvi ću nastaviti kretanje.

Tačno.



Netačno.



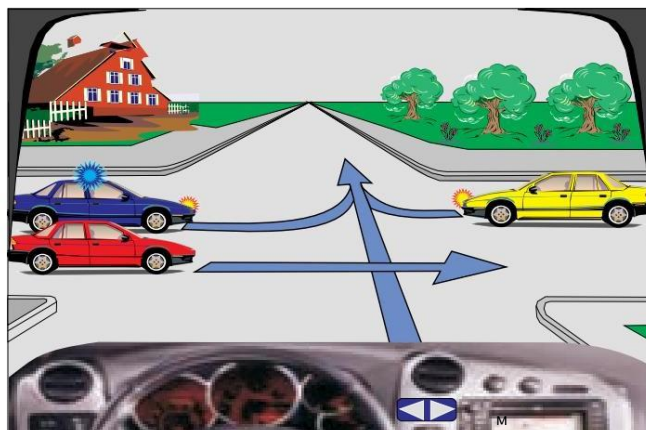
M

4059. Na raskrsnici redosled prvenstva prolaza treba da bude: crveni automobil, policijski auto, žuti automobil, ja.

Tačno.



Netačno.



M

4060. Na ovoj raskrsnici prvi ću nastaviti kretanje.

Tačno.



Netačno.

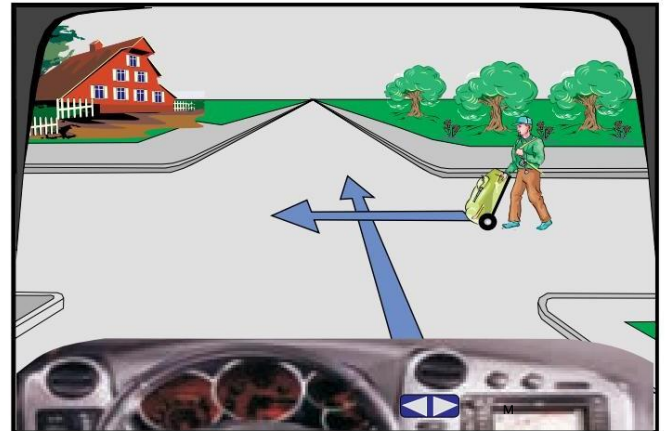


M

4061. Na ovoj raskrsnici vodićemo računa o pešaku iako se ne kreće ispravno.

✓ Tačno.

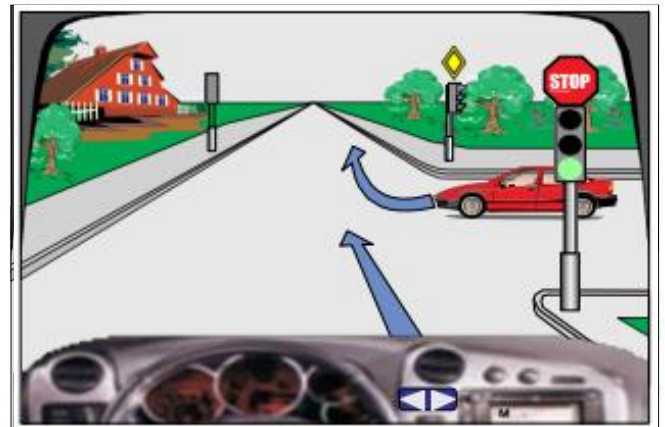
Netačno.



4062. Na ovoj raskrsnici ću nastaviti kretanje bez zaustavljanja.

✓ Tačno.

Netačno.



4063. Na ovoj raskrsnici biciklist kreće drugi.

✓ Tačno.

Netačno.



4064. Na ovoj raskrsnici moram da se zaustavim pre znaka STOP, zatim ću sa pojačanim oprezom nastaviti kretanje.

Tačno.

✓ Netačno.





4065. U ovoj situaciji dat ću prednost propuštanju žutih vozila, s obzirom da zadržavaju pravac kretanja.

Tačno.

✓ Netačno.



4066. U ovoj situaciji ja ću prvi krenuti.

✓ Tačno.

Netačno.

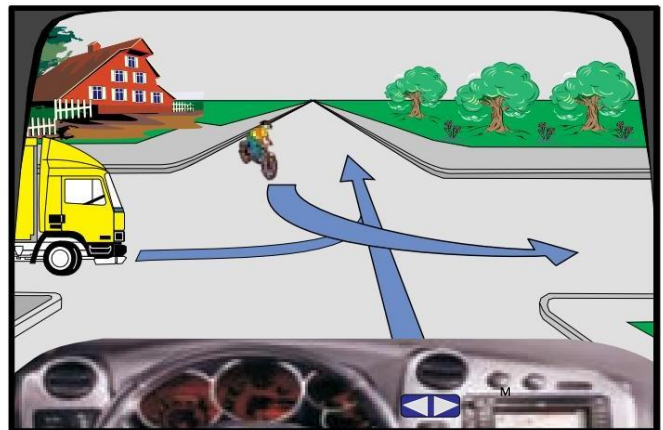
M



4067. U ovoj situaciji ja ću prvi krenuti.

✓ Tačno.

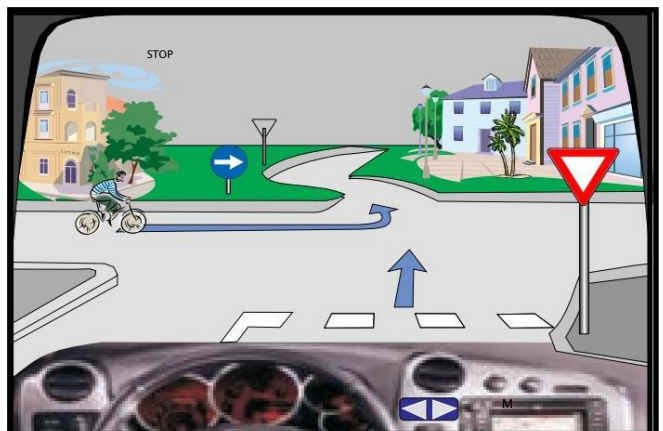
Netačno.



4068. U ovoj situaciji ja ću prvi krenuti.

Tačno.

✓ Netačno.



4069. Na ovoj raskrsnici prvi ću nastaviti kretanje.

Tačno.

✓ Netačno.



4070. Na ovoj raskrsnici prvi kreće žuti automobil.

✓ Tačno.

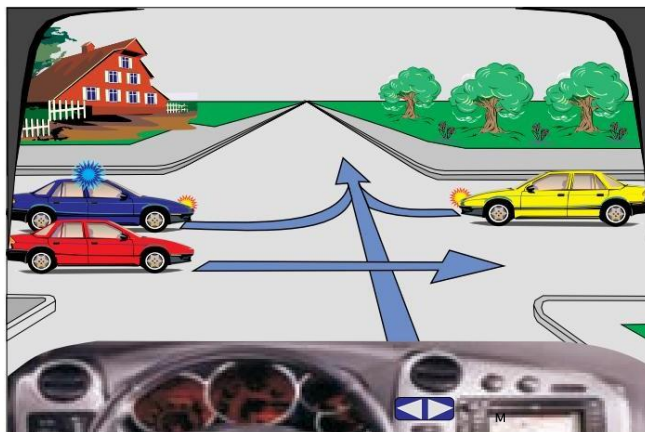
Netačno.



4071. Na raskrsnici redosled prvenstva prolaza treba da bude: policijski auto, žuti automobil, ja, crveni automobil.

✓ Tačno.

Netačno.



4072. Na ovoj raskrsnici ću se kretati poslednji.

✓ Tačno.

Netačno.



5001. **Alkohol tokom vožnje podstiče želju za velikom brzinom.**

 Tačno.

Netačno.

---

5002. **Alkohol tokom vožnje ima negativan uticaj.**

 Tačno.

Netačno.

---

5003. **Lekovi koje nije dozvoljeno konzumirati pre i za vreme vožnje deluju pozitivno.**

Tačno.

 Netačno.

---

5004. **Vozač pod dejstvom alkohola bolje ocenjuje situacije u saobraćaju.**

Tačno.

 Netačno.

---

5005. **Umor pozitivno utiče na psihofizičko stanje vozača.**

Tačno.

 Netačno.

---

5006. **Umor negativno utiče na psihofizičko stanje vozača.**

 Tačno.

Netačno.

---

5007. **Redovan odmor negativno utiče na psihofizičko stanje vozača.**

Tačno.

 Netačno.

5008. **Buka i vibracije pozitivno utiču na psihofizičko stanje vozača.**

Tačno.



Netačno.

5009. **Narkotici (droge) negativno utiču na psiho-fizičke sposobnosti vozača.**

Tačno.



Netačno.

5010. **Redovna ishrana negativno utiče na psiho-fizičke sposobnosti vozača.**

Tačno.



Netačno.

5011. **Razgovor vozača sa saputnikom negativno utiče na psiho-fizičke sposobnosti vozača.**

Tačno.



Netačno.

5101. **Okolina se čuva tokom vožnje (Eko-vožnja) i štedi gorivo ako vozimo auto maksimalnom brzinom.**

Tačno.



Netačno.

5102. **Okolina se čuva tokom vožnje (Eko-vožnja) i štedi gorivo ako dajemo gas zjenom vozilu.**

Tačno.



Netačno.

5103. **Čuvajte životnu sredinu tokom vožnje i štedite gorivo (Eco-vožnja), ako je vožnja bez ubrzanja i naglog kočenja.**

Tačno.



Netačno.

5104. **Okolina se čuva tokom vožnje (Eco-vožnja) i štedi gorivo ako se motor ugasi tokom dugih čekanja.**

Tačno.

Netačno.

5105. **Okolina se čuva tokom vožnje (Eco-vožnja) i štedi gorivo, ako koristimo auto na kratkim relacijama.**

Tačno.

Netačno.

5106. **Okolina se čuva tokom vožnje (Eco-vožnja) ako štedite gorivo, ako izbjegavate vožnju tokom gustog saobraćaja.**

Tačno.

Netačno.

5107. **Okolina se čuva u vožnji i štedi gorivo (Eco-vožnja) ako vozimo sa maksimalnim brojem obrtaja motora.**

Tačno.

Netačno.

5108. **Ekonomičnu vožnju karakteriše minimalna potrošnja goriva.**

Tačno.

Netačno.

5109. **Ekonomičnu vožnju karakteriše maksimalna potrošnja goriva.**

Tačno.

Netačno.

5110. **Eko vožnju karakteriše vožnja sa srednjim brojem obrtaja motora.**

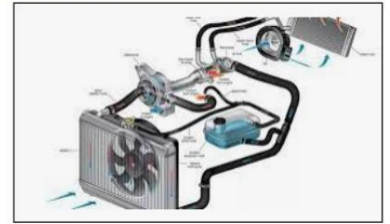
Tačno.

Netačno.

5201. Oprema za hlađenje (tečnost/voda) omogućava rad motora.

✓ Tačno.

Netačno.



5202. Sigurnosni trougao je obavezan rezervni deo automobila.

✓ Tačno.

Netačno.



5203. Pokazivači pravca se koriste tokom radnje sa vozilom (preticanje, skretanje levo ili desno, itd.).

✓ Tačno.

Netačno.



5204. Instrumentalna tabla vozila služi za kontrolu broja putnika u vozilu.

Tačno.

✓ Netačno.



5205. Nizak pritisak vazduha u pneumatici (gumama) smanjuje stabilnost vozila i oštećuje pneumaticu.

✓ Tačno.

Netačno.



5206. Volan služi za rad motora.

Tačno.

✓ Netačno.



5207. Nizak pritisak vazduha u pneumaticima (gumama) povećava troškove goriva.

✓ Tačno.

Netačno.



5208. Na fotografiji je prikazan rad signalnih uređaja.

- ✓ Tačno.  
Netačno.



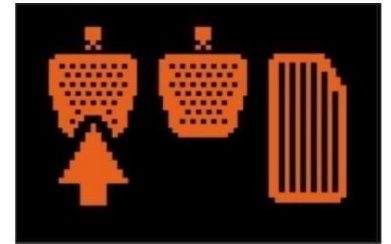
5209. ABS sistem vozila obezbeđuje da se točkovi ne blokiraju u slučaju kočenja.

- ✓ Tačno.  
Netačno.




5210. Pedala kvačila služi da zaustavi vozilo forsirano.

- Tačno.  
✓ Netačno.



5211. Kontrolna lampica na fotografiji signalizira (pokazuje) da je temperatura motora prešla dozvoljenu granicu - sistem hlađenja je neispravan.

- ✓ Tačno.  
Netačno.



5212. Kontrolna lampica na fotografiji signalizira (pokazuje) da je ABS sistem u funkciji.

- ✓ Tačno.  
Netačno.



5213. Kontrolna lampica na fotografiji signalizira (pokazuje) da je temperatura motora nije premašila dozvoljenu granicu - sistem hlađenja je u kvaru.

- Tačno.  
✓ Netačno.



5214. Kontrolna lampica na fotografiji signalizira (pokazuje) nedovoljnu količinu ulja u motoru ili kvar u sistemu za podmazivanje.

- ✓ Tačno.  
Netačno.



5215. Kontrolna lampica na fotografiji signalizira (pokazuje) da su uključena svetla za maglu na vozilu.

Tačno.



Netačno.



5216. Kontrolna lampica na fotografiji signalizira (pokazuje) da su uključena kratka svetla na vozilu.

Tačno.



Netačno.




5217. Kontrolna lampica na fotografiji signalizira (pokazuje) da su uključeni svi pokazivači pravca na vozilu.



Tačno.

Netačno.



5218. Kontrolna lampica signalizira (pokazuje) da alternator radi ispravno.



Tačno.

Netačno.



5219. Kontrolna lampica signalizira (pokazuje) da je tempomat nije aktiviran.

Tačno.



Netačno.



5220. Kontrolna lampica signalizira (pokazuje) da duga svjetla su upaljena.



Tačno.

Netačno.



5221. Kontrolna lampica signalizira (ukazuje) na problem sa električnom strujom.

Tačno.



Netačno.





5222. Kontrolna lampica signalizira (pokazuje) da je parkirna kočnica je aktiviran.



Tačno.

Netačno.



5223. Kontrolna lampica signalizira (pokazuje) da sigurnosni pojas je aktiviran.

Tačno.



Netačno.



5224. Kontrolna lampica signalizira (ukazuje) ESP - Elektronski program stabilnosti.



Tačno.

Netačno.



5225. Kontrolna lampica signalizira (pokazuje) brzinu kretanja.

Tačno.



Netačno.



5226. Kontrolna lampica signalizira (pokazuje) temperaturu motora.

Tačno.



Netačno.



5227. Kontrolna lampica signalizira (ukazuje) da svetla nisu u redu.

Tačno.



Netačno.



5228. Kontrolna lampica signalizira (ukazuje) probleme sa vazдушnim jastukom.



Tačno.

Netačno.



5229. Kontrolna lampica signalizira (pokazuje) da su grijači funkcionalni (dizel).

Tačno.

✓ Netačno.



5230. Kontrolna lampica signalizira (pokazuje) da je servo upravljača u redu.

Tačno.

✓ Netačno.



5231. Fotografija prikazuje EKOLOŠKI režim.

✓ Tačno.

Netačno.



5232. Mala sigurnosna udaljenost je prikazana na fotografiji.

✓ Tačno.

Netačno.



5233. Merač vremena vožnje je prikazan na fotografiji.

Tačno.

✓ Netačno.



5234. Cvetni vrt je prikazan na fotografiji.

Tačno.


✓ Netačno.



5235. Na sl. predstavljen je nedostatak vode za pranje stakla.

✓ Tačno.

Netačno



**5301. Šta karakteriše bezbednost vozača u saobraćaju na putevima?**

- ✓ Kultura u drumskom saobraćaju.
  - Pušenje tokom vožnje.
  - Vožnja maksimalnom brzinom koju odvija vozilo.
- 

**5302. Koji su principi defanzivne vožnje?**

- Treba buditi vlasnik vozila
  - Agresivnost učesnika u saobraćaju.
  - ✓ Budite tolerantni prema greškama drugih.
- 

**5303. Šta se podrazumijeva pod kulturom u saobraćaju.**

- ✓ Uzajamno poštovanje u saobraćaju.
  - Konzumiranje alkohola tokom vožnje.
  - Agresivnost učesnika u saobraćaju.
- 

**5304. Koji su principi defanzivne vožnje?.**

- ✓ Predviđanje razvoja saobraćajnih situacija
  - Kasno reagiranje.
  - Korišćenje mobilnog telefona tokom vožnje.
- 

**5305. Koji su principi defanzivne vožnje?**

- Kasno reagiranje.
  - ✓ Održavanje bezbedne udaljenosti tokom vožnje.
  - Uvek koristite duga svetla noću tokom vožnje
- 

**5306. Šta karakteriše bezbednost vozača u drumskom saobraćaju?**

- Ulaz u saobraćaj sa ubrzanje.
  - Vožnja maksimalnom brzinom koju vozilo razvija.
  - ✓ Kultura u drumskom saobraćaju.
- 

**5307. Prema kojim učesnicima u saobraćaju ne važi princip poverljivosti?**

- ✓ Djeca, starije osobe, osobe sa invaliditetom.
- Vozači autobusa.
- Profesionalni vozači.

**5308. Šta se smatra pogrešnim ponašanjem u drumskom saobraćaj?**

- ✓ Svako ne redovno ponašanje koje je u suprotnosti sa saobraćajnim i bezbednosnim pravilima.  
Samo ponašanja koja uzrokuju saobraćajne nesreće.  
Samo ako vozač koristi defanzivnu vožnju.

**5309. Zašto princip poverenja ne važi za decu?**

- ✓ Njihovi postupci su nepredvidivi.  
Zbog njihove, agresivnosti.  
Oni dobro poznaju saobraćajna pravila.

**5310. Šta trebaju uzeti u obzir novi i neiskusni vozači?**

- ✓ Kako se ponašati u saobraćaju.  
Voze samo noću.  
Nije dozvoljeno imati suputnike tokom vožnje.

**5311. Koji su uzroci da mladi i neiskusni vozači izazivaju saobraćajne nesreće?**

- ✓ Vozilo nije u vlasništvu vozača.  
Neiskustvo u vožnji.  
Primjena defanzivne vožnje.

**5312. Šta je važno da znaju mladi i neiskusni vozači?**

- ✓ Kako reagovati u opasnim situacijama.  
Čitanje msm-a tokom vožnje.  
Znate godine nadolazećih vozača.

**5313. Zašto mladi i neiskusni vozači ugrožavaju bezbjednost saobraćaja?**

- Aplikacija-ECO-vožnje.
- ✓ Nepoznavanje uzroka saobraćajnih nesreća.  
Poštivanje saobraćajnih pravila.

**5314. Zašto mladi i neiskusni vozači ugrožavaju bezbjednost saobraćaja?**

- Voze vozilo sa automatskim menjačem.
- ✓ Žele da budu dominantni nad svojim vršnjacima.  
Nemaju vozačku dozvolu za sve kategorije.

**5315. Ko su najugroženiji učesnici u drumskom saobraćaju?**

- ✓ Djeca, slijepo osobe, osobe sa invaliditetom.
- Putnici u autobusima.
- Vozač tramvaja.

**5316. Kako djeca reaguju na put?**

- ✓ U većini slučajeva nisu svjesni opasnosti u saobraćaju.
- U zavisnosti od pola.
- Svaki put u skladu sa saobraćajnim pravilima.

**5317. Koje su obaveze i odgovornosti učesnika u saobraćaju?**

- Usput gledate reklame.
- Poznajete proizvođača saobraćajnih znakova.
- ✓ Ne bacajte stvari ili smeće na ulicu.

**5318. Na šta treba skrenuti pažnju vozača tokom vožnje?**

- Na upotrebe telefona
- ✓ Na pješacima
- Na upotrebe radio.

**5319. Na šta vozač treba obratiti pažnju tokom vožnje?**

- ✓ Na pješacima i bezbedno rastojanje.
- Budite oprezni dok pišete sms na mobilnom telefonu.
- U tipu vozila pri preticanju.

**5320. Šta karakteriše opasno ponašanje u drumskom saobraćaju?**

- Koncentracija tokom vožnje.
- ✓ Ulazak u opasne situacije.
- Ponašanje u skladu sa saobraćajnim pravilima.

**5321. Koji su principi defanzivne (odbrambene) vožnje?**

- Naglo ubrzanje.
- Izbegavanje (evitiranje) nesreće zbog kršenja pravila o saobraćaju od strane drugih učesnika.
- Vožnja isključivo sa automatskim menjačem.